

微信: Wj585858-

请直接打印，已按题目首字拼音字母排版  
《西方经济学(专)》开放大学期末考试试题库

总题量(1057): 单选(308) 简答(42) 判断(308)  
填空(312) 计算题(87)

单选(308)

1、IS 曲线是描述 ( )。-->A.物品市场达到均衡时，国内生产总值与利率之间的关系

2、LM 曲线向右下方移动是由于 ( )。-->A.货币供给量增加

3、M 曲线不变的情况下，自发总支出增加会引起 ( )。-->A.国内生产总值增加，利率上升

4、M 曲线向右下方移动是由于 ( )。-->A.货币供给量增加

5、S 曲线向左下方移动的条件是 ( )。-->B.自发总支出减少

6、按照国际上通用的标准，表示收入差距悬殊时的基尼系数为 ( )。-->D.0.5 以上

7、按照国际上通用的标准，基尼系数的临界点为 ( )。-->C.0.4

8、按支出法，应计入私人国内总投资的项目是 ( )。-->C.个人购买的住房

9、按支出法，应计入私人国内总投资的项目是：(个人购买的住房)。

10、奥肯定理是说明 ( )。

C. 失业率与实际国民收入增长率之间关系的经验统计规律

11、边际产量递减规律发生作用的前提是：(生产技术没有发生重大变化)。

12、边际产量递减规律所研究的问题是(其他生产要素不变，一种生产要素变动对产量的影响)。

13、边际产量曲线与平均产量曲线相交时 ( )。-->A.平均产量达到最大

14、边际储蓄倾向等于 ( )。-->C.1 减去边际消费倾向

15、边际进口倾向反映的是 ( )。-->A.进口与国内生产总值之间的关系

16、边际收益是 ( )。-->B.企业每增加销售一单位的产品所增加的收入

17、边际消费倾向为 0.80 时，边际储蓄倾向是 ( )。-->B.0.20

18、边际效用为零时的总效用 ( )。-->D.达到最大

19、产量的增加量除以生产要素的增加量的值等于 ( )。-->B.边际产量

20、产品差别是指：(索尼牌彩电与海尔牌彩电的差别)。

21、产生价格粘性的原因在于 ( )。-->C.调整价格需要花费成本

22、乘数发生作用的条件是 ( )。-->B.社会上的各种资源没有到了充分利用

23、乘数一加速模型，引起经济周期的原因是：( )。-->A.投资的变动

24、搭便车通常多被看作是公共物品，是指 ( )。-->C.无法防止不愿意付费的人消费这些商品

25、当经济中存在失业时，所采用的货币政策工具是 ( )。-->A.在公开市场上买进有价证券

26、当经济中存在通货膨胀时，应该采取的财政政策工具是：( )。-->B.减少政府支出和增加税收

27、当咖啡的价格急剧升高时，在其他条件不变的情况下，对茶叶的需求量将：(增加)。

28、当劳伦斯曲线和绝对不平均线所夹面积为零时，基尼系数 ( )。-->B.等于一

29、当某项经济活动为别人带来好处，又不用获得好处的人付出任何代价，这叫做 ( )。-->A.正外部性

30、当其他生产要素不变，而一种生产要素增加时 ( )。-->C.总产量先增后减

31、当汽油的价格上升时，在其他条件不变的情况下，对小汽车的需求量将 ( )。-->A.减少

32、当无差异曲线与原点成 90°凸出时，表示相结合的两种商品是：( )。-->A.完全替代的

33、当债券收益不变时，债券价格上升必然导致利率水平(下降)。

34、当总产量达到最大时 ( )。-->C.边际产量为零

35、当总需求曲线与短期总供给曲线相交时，长期总供给曲线在交点的左边，这时 ( )。-->B.均衡的国内生产总值大于充分就业的国内生产总值

36、道德风险意味着(投保人掩盖自己的疾病，骗保险公司)。

37、等产量曲线向右上方移动表明：( )。-->B.产量增加

38、顶峰是(繁荣阶段过渡到衰退阶段的转折点)。

39、短期边际成本曲线与短期平均成本曲线的交点是 ( )。-->A.平均成本曲线的最低点

40、短期平均成本曲线呈 U 型，是因为 ( )。-->B.边际产量递减规律

41、非竞争性和非排他性通常是用来指 ( )。-->C.公共物品

42、菲利普斯曲线的基本含义是 ( )。-->C.失业率上升，通货膨胀率下降

43、个人收入与个人可支配收入的差别是( )。

A.个人所得税

44、个人收入与个人可支配收入的差别是 ( )。-->A.个人所得税

45、根据博弈论的分析，“囚徒困境”中的两个囚徒的优势战略是：( )。-->C.双方都交代

46、根据乘数理论，在边际消费倾向为 80 时，1 亿元的自发总支出增量将使国内生产总值增加 ( )。-->D.5 亿元

47、根据储蓄函数，引起储蓄增加的因素是 ( )。-->A.收入增加

48、根据等产量线与等成本线相结合在一起的分析，两种生产要素的最适组合是：(等产量线与等成本线相切之点)。

49、根据菲利普斯曲线，降低通货膨胀率的办法是 ( )。-->C.提高失业率

50、根据简单的凯恩斯主义模型，引起国内生产总值减少的原因是 ( )。-->A.消费减少

51、根据凯恩斯的刚性工资理论，当劳动的供大于求时，名义工资 ( )。-->D.总供给减少

52、根据凯恩斯主义的解释，需求拉上通货膨胀产生的原因是 ( )。-->A.消费的过度增长

53、根据无差异曲线分析，消费者在 ( ) 实现了均衡。

A. 无差异曲线与消费可能线的相切之点

54、根据消费函数，引起消费增加的因素是 ( )。-->B.收入增加

55、根据需求管理的原理，应该抑制总需求的条件是 ( )。-->A.总需求大于总供给

56、根据总需求-总供给模型，当总需求不变时，预期的物价水平上升会引起 ( )。-->C.均衡的国内生产总值减少，价格水平上升

57、公共物品的特征是-->B.非竞争性和非排他性

58、公开市场活动是指 ( )。-->C.中央银行在金融市场上买进或卖出有价证券

59、供给弹性的大小与时间有关，一般来说(长期高于短期)。

60、供给的变动引起 ( )。-->C.均衡价格反方向变动，均衡数量同方向变动

61、供给曲线是表示供量与(价格之间的关系)。

62、供给曲线向右上方倾斜，表示表示当一种商品价格 ( ) 时，它的供给量 ( )。-->C.上升，增加

63、供给推动的通货膨胀可以用总需求-总供给模型来说明 ( )。-->A.在总需求不变的情况下，总供给曲线向左上方移动从而使价格水平上升

64、光盘价格上升的替代效应是(光盘价格相对其他商品价格的上升对光盘需求的影响)。

65、光盘价格上升的替代效应是：( )。-->A.光盘价格相对其他商品价格的上升对光盘需求的影响

66、国民生产总值中的最终产品是指 ( )。-->C.既包括有形的产品，也包括无形的产品

67、国内生产净值与国民收入的差别(直接税)。

68、国内生产净值与国内生产总值的差别是 ( )。-->B.折旧

69、国内生产总值是指 ( )。-->C.一年内在本国领土上生产的最终产品的市场价值总和

70、何种情况下会存在供给大于需求? ( )。-->A.实际价格低于均衡价格

71、根据等产量线与等成本线相结合在一起的分析两种生产要素的最适组合是 ( )。-->B.等产量线与等成本线相切之点

72、宏观经济学的中心是 ( )。-->A.国民收入决定理论

73、宏观经济学要解决的问题是：(资源利用)。

74、宏观经济政策的目标是 ( )。-->C.充分就业、物价稳定、减少经济波动和实现经济增长

75、汇率贬值将引起 ( )。-->A.国内生产总值增加，贸易收支状况改善

76、货币筹资是指政府把债券卖给 ( )。-->A.中央银行

77、货币供给量增加，债券价格和利率的变动分别为 ( )。-->B.上升下降

78、货币中性论是指货币的变动：( )。-->D.只影响名义变量而不影响实际变量

79、货币主义货币政策的政策工具是：( )。-->B.控制货币供给量

80、机会成本是指 ( )。-->C.作出一项选择时所放弃的其他若干种可能的选择中最好的一种

81、鸡蛋的供给量增加是指供给量由于（）。  
D. 鸡蛋的价格提高而引起的增加  
82、基尼系数等于 1，表明收入分配（）。  
C. 绝对不平均  
83、基尼系数可能根据劳伦斯曲线来计算，基尼系数的提高表示（）-->A.收入分配不平均程度的增加  
84、基数效用论采用的方法是（）-->A.边际效用分析法  
85、即使企业不生产也必须支付的成本是：（固定成本）。  
86、计算需求弹性的弹性系数的一般公式是（）。  
B 需求量变动的百分比除以价格变动的百分比  
87、技术进步会引起：（）-->A.短期与长期总供给曲线都向右平行移动  
88、加速原理说明了：（）-->B.投资的变动大于产量的变动  
89、价格在经济中的作用是（）。-->D.以上都对.假设需求的收入弹性系数为  
90、假定资本量为 100 万，所生产的产量为 50 万，则资本一产量比率为（）。-->B.100 万/50 万 =2.67  
91、假设需求的收入弹性系数为 0.5，那么当收入变动 5%时，需求量变动（）。-->B.2.5%  
92、假设一种商品的需求无弹性，如果其供给曲线向左移动，那么：（）-->C.均衡数量保持不变，均衡价格上升  
93、简单货币乘数是指（）。-->B.银行所创造的货币量与最初存款的比例  
94、今年的物价指数是 180，通货膨胀率为 20%，去年的物价指数是：（150）。  
95、经济学分析中所说的短期是指（）-->C.只能根据产量调整可变生产要素的时期  
96、经济学根据其研究对象的不同可分为（）。  
B. 微观经济学和宏观经济学  
97、经济学家认为，工会的存在是：（对劳动供给的垄断）。  
98、经济学上的需求是指人们的（）。-->C.购买欲望和购买能力的统一  
99、经济学上所说的稀缺性是指（）。-->B.资源的绝对稀缺性  
100、经济学上所说的资源是稀缺的是指（相对于人们的无穷欲望来说，资源总是不足的）。  
101、经济学所建立的理论：（是从一系列假设中推导出来的）。  
102、经济学研究方法中的规范方法（）。-->B.研究是什么”的问题  
103、经济增长是指：（）-->B.国内生产总值或人均国内生产总值的增加  
104、经济增长最简单的定义就是（）-->B.国内生产总值的增加

105、经济周期的中心是（）-->C.国内生产总值的波动  
106、经济租是指：（）-->D.生产要素所有者得到的实际收入超过他们所希望得到的收入  
107、决定经济增长的因素是（）。-->A.制度、资源、技术  
108、开放经济中的乘数（）。-->C.小于封闭经济中的乘数  
109、凯恩斯认为，决定投资需求的因素是（）。-->B.预期的未来利润率与利率水平  
110、凯恩斯所说的需求拉上的通货膨胀发生的条件是（）。-->A.资源得到了充分利用而总需求仍然在增加  
111、凯恩斯主义货币政策是要通过对（）的调节来调节利率，再通过利率的变动影响总需求。-->C.货币供给量  
112、凯恩斯主义所重视的政策工具是：（需求管理）。  
113、劳动的供给曲线（）-->C.向后弯曲  
114、劳动力总量包括（）-->A.工作年龄人口中的所有就业者和失业者  
115、利润最大化的原则是（）。-->B.边际成本等于边际收益  
116、垄断竞争市场上长期均衡的条件是（）。-->B.MR=M  
117、垄断竞争市场上长期均衡的条件是：（MR=MC，AR=AC）。  
118、垄断企业采取歧视定价时（）。  
C. 对同一种商品向不同消费者收取不同的价格  
119、垄断之所以会引起市场失灵是因为：（）-->A.垄断者利用对市场的控制使价格没有反映市场的需求情况  
120、每个企业都可以充分自由地进入或退出某个行业的市场是（）。-->A.完全竞争市场  
121、美国经济学家莫迪利亚尼提出的生命周期假说认为人们：（工作时期储蓄以便为退休后的消费提供资金）。IS 曲线是描述：（物品市场达到均衡时，国内生产总值与利率之间的关系）。  
122、某位消费者把他的所有收入都花在可乐和薯条上。每杯可乐 2 元，每袋薯条 5 元，该消费者的收入是 20 元，以下哪个可乐和薯条的组合在该消费者的消费可能线上？（5 杯可乐和 2 袋薯条）。  
123、某种商品的供给曲线向右上方倾斜，如果这种商品的一种互补品的价格上升则会引起：（均衡数量减少，均衡价格下降）。  
124、某种商品的价格变动 10%，需求量变动 20%，则它的弹性系数为（）。-->D.2  
125、内在经济是指（）-->A.一个企业在生产规模扩大时由自身内部所引起的产量增加

126、那么当收入变动 5%时，需求量变动（）。-->B.2.5%  
127、能够做到薄利多销的商品是（）的商品。-->C.需求富有弹性  
128、逆向选择意味着：（）-->A.为防被骗，保险公司对投保人收取较高的保费  
129、平均收益等于边际收益的市场是（）。-->A.完全竞争市场  
130、平均消费倾向与平均储蓄倾向之和：（等于 1）。  
131、企业生产额外的一单位产量所需要的成本是（）。-->B.边际成本  
132、企业生产与经营中的各种实际支出称为：（显形成本）。  
133、清洁浮动是指（）。-->A.汇率完全由外汇市场自发地决定  
134、人民币汇率升值是指（）。-->A.人民币与美元的比率由 1：0.2 变为 1：0.25  
135、认为在长期与短期中都不存在菲利普斯曲线所表示的失业率与通货膨胀率之间交替关系的经济学流派是：（）-->C.理性预期学派  
136、如果（需求量变化百分比大于价格变化百分比），我们就说一种商品的需求富有弹性。  
137、如果，两种商品间存在替代关系，则价格下降将引起（B 的需求曲线向左移动）。  
138、如果本国货币的汇率升值，可以使：（本国的出口减少，进口增加）。  
139、如果当消费某种商品的边际效用为 0 时，则这时消费该商品所得到的总效用（达到最大）。  
140、如果经济中发生了未预期到的通货膨胀，那么（）。-->C.债务人受益而债权人受损失  
141、如果某种商品的需求是缺乏弹性的，那么（提高价格会增加总收益）。  
142、如果其它各种条件均保持不变，当 X 商品的互补品 Y 商品的价格上升时，对 X 商品的需求（）-->B.减少  
143、如果其它各种条件均保持不变，当 X 商品的替代品 Y 商品的价格上升时，对 X 商品的需求（）。-->A.增加  
144、如果生产过程中存在规模收益不变，这意味着当企业生产规模扩大时（）。-->D.产量增加的比率等于生产规模扩大的比率  
145、如果生产过程中存在规模收益递减，这意味着企业生产规模扩大时：（产量增加的比率小于生产规模扩大的比率）。  
146、如果生产过程中存在规模收益递增，这意味着当企业生产规模扩大时（）。-->B.产量增加的比率大于生产规模扩大的比率  
147、如果收入不变而两种商品的价格同比例上升，则消费可能线（）-->B.向左下方平行移动

148、如果收入分配绝对平均时，劳伦斯曲线将（）。-->B.与 45 度线重合  
149、如果需求的弹性系数为 1.5，价格下降时总收益将（）。-->A.增加  
150、如果需求的价格弹性为 1/3 价格上升 30%时需求量将（）。-->B.减少 10%  
151、如果要使总产量达到最大，则一种生产要素的投入应该使（）-->C.边际产量为正数  
152、如果一个企业降低其商品价格后发现总收益增加，这意味着该种商品的（）-->B.需求富有弹性  
153、如果一种商品的价格从 5 元上升至-->A.富有弹性  
154、如果一种商品的需求弹性系数为 0.5，价格（）（）会导致总收益（）（）：（）  
D.上升，增加  
155、如果一种商品的需求的价格弹性为 2，价格由 1 元上升到 02 元会导致需求量（）。-->C.减少 4%  
156、如果一种商品的需求的价格弹性为 5，价格由 1 元上升到 04 元会导致需求量（）-->D.减少 20a  
157、如果一种商品的需求富有弹性，商品价格上涨 5%时：（需求量的减少超过 5%）。158、如果一种商品的需求缺乏弹性，其弹性系数：（大于 0 小于 1）。  
159、商品的边际效用随着商品消费量的增加而（）。-->B.递减  
160、实际国内生产总值（实际 GP）：（等于名义 GP 除以价格水平）。  
161、实行浮动汇率将（）。-->B.不利于国内经济和国际经济关系的稳定，会加剧经济波动  
162、实证方法与规范方法的根本区别是（研究方法不同）。  
163、市场经济中价格机制做不到的是（）。-->D.实现全社会文明程度的提高  
164、市场失灵指的是（）-->C.仅仅依靠价格调节并不能实现资源的最优配置  
165、收入分配的平等标准是指（）-->C.按公平的准则来分配国民收入  
166、收入分配的平等标准是指：（）-->C.按公平的准则来分配国民收入  
167、收入分配绝对平均时，基尼系数（-->B.等于零  
168、随着产量的增加，长期平均成本的变动规律是（先减后增）。  
169、随着工资水平的提高（）。-->B.劳动的供给先增加，但工资提高到一定水平后，劳动的供给不仅不会增加反而会减少  
170、随着工资水平的提高，劳动的供给量是（先增加后减少）。

171、通货是指 ( )。-->**C.资本、劳动、制度**  
 172、同一条无差异曲线上的不同点表示 ( )。-->**B.效用水平相同，所消费的两商品组合比例却不同**  
 173、完全竞争市场上，平均收益与边际收益之间的关系是 ( )。-->**B.平均收益等于边际收益**  
 174、完全竞争市场上的企业之所以是价格接受者，是因为 ( )。-->**C.它的产量只占行业的全部产量的一个很小的份额**  
 175、微观经济学的中心是：(价格理论)。  
 176、微观经济学要解决的问题是 ( ) -->**A.资源配置**  
 177、位于生产可能线以内的任何一点表示 ( )  
 A.资源没有得到充分利用  
 178、无差异曲线的一般形状是 ( )。-->**D.自左上方向右下方倾斜的一条曲线**  
 179、物价水平上升对总需求的影响可以表示为 ( )。-->**A.沿同一条总需求曲线向左上方移动**  
 180、稀缺性的存在意味着 ( ) -->**A.决策者必须作出选择**  
 181、稀缺性的存在意味着：( ) -->**D.决策者必须作出选择**  
 182、下列论述中属于规范方法的是：(治理通货膨胀比增加就业更重要)。  
 183、下列哪一个不是垄断竞争的特征？(企业数量很少)。  
 184、下列哪一项不是划分市场结构的标准：(利润的高低)。  
 185、下列哪一项会导致某种商品需求曲线向左移动？( )  
 B.互补品价格上升  
 186、下列哪一项是规范方法的说法？( )。-->**D.收入分配中有太多的不平等**  
 187、下列哪一项是实证方法的说法？(医生挣的钱比工人多)。  
 188、下列哪一项是造成进入限制的自然原因 ( ) -->**D.资源控制**  
 189、下列哪一项属于规范方法的命题？( ) -->**D.应该降低利率以刺激投资**  
 190、下列哪一种情况不是市场经济的特征 ( ) -->**B.生产者按主管部门指令生产**  
 191、下列哪一种商品的需求价格弹性最大 ( ) -->**D.高档化妆品**  
 192、下列哪一种 M2 的一个组成部分，但不是 M1 的一个组成部分：(储蓄存款)。  
 193、下列哪一种效应使物价水平的变动对投资产生反方向的影响：(利率效应)。  
 194、下列哪种情况所对应的收入分配最为平均？( ) -->**A.基尼系数为 0.15**  
 195、下列哪种情况将导致商品需求量的变动而不是需求的变动 ( )。

D.该商品的价格下降  
 196、下列商品的需求价格弹性最小的是 ( ) -->**C.食盐**  
 197、下列说法中错误的一种说法是：( ) -->**B.只要边际产量减少，总产量也一定减少**  
 198、下列项目中不可称为可变成本的是 ( )。-->**B.生产工人的工资**  
 199、下面表述中哪一个是正确的：(在通货膨胀不能预期的情况下，通货膨胀有利于雇主而不利于工人)。  
 200、下面存在搭便车问题的物品是：(路灯)。  
 201、下面关于边际成本和平均成本的说法中哪一个是正确的？( ) -->**C.如果边际成本小于平均成本，平均成本一定下降**  
 202、下面关于边际成本和平均成本的说法中哪一个是正确的？(在平均成本曲线的最低点，边际成本等于平均成本)。  
 203、下面哪一项不是市场失灵的原因：(私人物品)。  
 204、下面哪一项经济活动可能引起负外部性(汽车排出的废气)。  
 205、下面哪一项物品具有非排他性？( ) -->**C.国防**  
 206、下面哪一种情况表明存在着价格下限：( ) -->**A.尽管现在供给过剩，但生产者仍在增加供给**  
 207、现代市场经济中最重要的企业形式是：( ) -->**D.股份制公司**  
 208、消费者从物品与劳务的消费中得到的满足程度称为(效用)。  
 209、消费者对某物品的需求量与价格之所以成反方向变动，根源在于：(边际效用递减规律)。  
 210、消费者均衡的条件是 (Px/Py=MUx/MUy)。  
 211、消费者均衡是研究消费者在既定收入条件下，如何实现 ( ) -->**D.最大化**  
 212、消费者均衡是研究消费者在既定收入条件下，如何实现 ( ) -->**D.效用最大化**  
 213、消费者预期某种物品的价格将来会上升，则对该物品当前的需求会：( )  
 B.增加  
 214、需求的变动引起 ( )。-->**A.均衡价格和均衡数量同方向变动**  
 215、需求定理表明 ( )。-->**C.计算机的价格下降会引起其需求量增加**  
 216、需求定理表明(计算机的价格下降会引起其需求量增加)。  
 217、需求定理意味着，在其他条件不变的情况下 ( ) -->**B.随着汽车价格上升，汽车需求量将减少**  
 218、序数效用论来用的方法是 ( )。  
 B.元差异曲线分析法  
 219、选择具有重要性，基本上是因为 ( )。

B.相对于人类社会的无穷欲望而言，生产物品所需要的资源总是不足的  
 220、一定时期内发生的变量的数值叫做(流量)。  
 221、一个企业的市场占有率越高，表明：(该行业的垄断程度越高)。  
 222、一个市场上只有一个企业，生产没有替代品的产品，这样的市场结构被称为 ( )。-->**B.垄断**  
 223、一个行业有很多企业，每个企业销售的产品与其他企业的产品略有差别，这样的市场结构被称为：(垄断竞争)。  
 224、一个行业只有少数几个企业，每个企业都考虑其竞争对手的行为，这样的市场结构被称为 ( ) -->**C.寡头**  
 225、一年内本国常住居民所生产的最终产品的价值的总和被称为 ( ) -->**A.国民生产总值**  
 226、一年内在本国领土所生产的最终产品的市场价值总和根据价格变化调整过的数值被称为 ( ) -->**B.实际国内生产总值**  
 227、一种商品的需求曲线向右下方倾斜，如果其供给曲线向左移动则会引起 ( ) -->**C.均衡数量减少，均衡价格上升**  
 228、一种商品的需求曲线向右下方倾斜，如果生产该种商品的生产要素的价格上升，那么：( ) -->**C.均衡数量减少，均衡价格上升**  
 229、已知错商品的价格为 5 元，y 商品的价格为 2 元。如果消费者从这两种商品的消费中得到最大效用，商品 Y 的边际效用为 3，那么，此时错商品的边际效用为 ( )。-->**D.75**  
 230、已知某种商品的需求是富有弹性的，在其他条件不变的情况下，卖者要想获得更多的收益，应该：(适当降低价格)。  
 231、以 MP 表示边际消费倾向，MPS 表示边际储蓄倾向，乘数是：(1/MPS)。  
 232、以下哪个选项不是宏观经济政策目标：(完全竞争)。  
 233、引起摩擦性失业的原因 ( )。-->**C.经济中劳动力的正常流动**  
 234、引致消费取决于 ( )。-->**C.收入和边际消费倾向**  
 235、用先进的机器设备代替劳动，这一措施会导致：(劳动的需求曲线向左移动)。  
 236、由一种工作转换到另一种工作而导致的失业称为 ( ) -->**B.摩擦性失业**  
 237、由于经济衰退而形成的失业属于：(周期性失业)。  
 238、由于总需求不足而形成的失业属于：( ) -->**C.周期性失业**  
 239、与短期相比，长期平均成本曲线的变化特征是 ( )。-->**B.比较平坦**

240、与短期相比，长期平均成本曲线的变化特征是(比较陡峭)。  
 241、在 IS 曲线不变的情况下，货币量减少会引起：(国内生产总值减少，利率上升)。  
 242、在 IS 曲线不变的情况下，货币量增加会引起(国内生产总值增加，利率下降)。  
 243、在 LM 曲线不变的情况下，自发总支出增加会引起 ( )。-->**A.国内生产总值增加，利率上升**  
 244、在短期，典型的平均成本曲线是 ( )。  
 C.U 型  
 245、在短期，随着产量的增加，平均可变成本 ( ) -->**A.先减后增**  
 246、在短期中，当边际成本曲线位于平均成本曲线上方时 ( ) -->**B.平均成本是递增的**  
 247、在固定汇率制下，一国货币对他国货币的汇率 ( )。  
 B.基本固定，在一定范围内波动  
 248、在寡头市场上 ( ) -->**B.只有少数几家企业，每个企业都考虑其竞争对手的行为**  
 249、在寡头市场上，价格领袖制是指：(由一家寡头率先制定价格，其他寡头紧随其后)。  
 250、在经济学中 M 是指 ( )。  
 C.现金与商业银行的活期存款  
 251、在经济增长中起着最大作用的因素是 ( ) -->**C.技术**  
 252、在均衡价格下 ( ) -->**C.供给量等于需求量**  
 253、在开放经济中，出口的增加将引起(国内生产总值增加，贸易收支状况改善)。  
 254、在开放经济中，国内总需求的增加将引起：( ) -->**B.国内生产总值增加，贸易收支状况恶化**  
 255、在开放经济中决定国内国内生产总值水平的总需求是 ( )。-->**B.对国内产品的总需求**  
 256、在垄断竞争市场上：( ) -->**B.该行业有许多企业，每个企业销售的产品与其他企业的产品略有差别**  
 257、在垄断竞争中(有许多企业生产有差异的产品)。  
 258、在垄断市场上，价格：( ) -->**C.受市场需求状况的限制**  
 259、在垄断市场上，垄断企业能获得超额利润主要是由于：(实行了卖方垄断)。  
 260、在垄断市场上，企业数量是( )。  
 A.一家  
 261、在垄断市场上价格 ( ) -->**C.受市场需求状况的限制**  
 262、在某种物品市场上，出现均衡价格上升，均衡数量增加的原因必定是：(人们的收入增加)。  
 263、在商业银行的准备率达到了法定要求时，中央银行降低准备率会导致 ( )。-->**C.货币供给量的增加和利率降低**

264、在实行单一定价时，垄断企业对需求 ( ) 的产品采用低价多销的办法可以实现和利润最大化。-->**A.富有弹性**

265、在实行单一定价时，垄断企业对需求 ( ) 的产品采用高价少销的办法可以实现利润最大化。-->**B.缺乏弹性**

266、在图形上，某种商品随价格上升需求量减少表现为 ( ) -->**B.沿着同一条需求曲线向左上方移动**

267、在完全竞争市场上，企业对劳动的需求主要取决于 ( ) -->**B.劳动的边际生产力**

268、在完全竞争市场上，长期均衡的条件是 ( ) -->**C.MR=MC=AR=AC**

269、在完全竞争市场上，超额利润存在的条件是 ( 市场价格高于厂商的平均成本 )。

270、在完全竞争市场上，如果某行业的产品价格等于平均成本，那么 ( ) -->**C.既无企业进入该行业也无企业退出该行业**

271、在西方国家，运用货币政策调节经济的是： ( ) -->**A.中央银行**

272、在下列情况中作为最终产品的是： ( ) -->**B.旅游公司用于载客的小汽车**

273、在下列情形中，应该计入当年国内生产总值的是 ( ) -->**A.当年生产的拖拉机**

274、在消费者收入与商品价格既定条件下，消费者所能购买到的两种商品数量的最大组合的线叫做： ( 消费可能线 )。

275、在研究消费者均衡时，假设 ( ) 。-->**D.消费者的嗜好、收入和商品价格既定**

276、在一般的情况下，消费者收入增加一般会 ( ) 。-->**B.需求曲线向右移动**

277、在一定的技术水平下，生产要素的数量与某种组合和它所能生产出来的最大产量之间的依存关系称为： ( 生产函数 )。

278、在以下四种方式中，工会为了提高工资，所罪用的方式是 ( ) 。  
C.要求政府限制女工和童工的使用

279、在以下四种方式中，工会为了提高工资，所采用的方式是要求政府： ( ) -->**C.限制女工和童工的使用**

280、在以下四种情况中，乘数最大的是： ( ) -->**D.边际消费倾向为 0.8**

281、在以下四种政策工具中，属于需求管理的是 ( ) 。-->**C.货币政策**

282、在影响总需求的财产效应、利率效应和汇率效应中，最重要的是 ( ) 。-->**B.利率效应**

283、在正常情况下，经济成本与经济利润 ( ) 。-->**C.前者比会计成本大，后者比会计利润小**

284、在总需求—总供给模型中，总需求减少会引起： ( ) -->**D.均衡的国内生产总值减少，价格水平下降**

285、在总需求的构成中，哪一项与物价水平无关： ( ) -->**C.政府需求**

286、在总需求—总供给模型中，总需求增加会引起 ( ) -->**A.均衡的国内生产总值增加，价格水平上升**

287、在总需求中，引起经济波动的主要因素是 ( ) -->**B.投资**

288、在总需求—总供给模型中，总需求减少会引起 ( 均衡的国内生产总值减少，价格水平下降 )。

289、政府支出中的政府购买的增加可以 ( ) 。  
A.增加投资

290、政府支出中的转移支付的增加可以 ( ) 。-->**C.增加消费**

291、只有在何种情况发生时，存在供给小于需求？ ( 实际价格低于均衡价格 )。

292、中央银行规定的银行所保持的最低准备金与存款的比率是 ( 法定准备率 )。

293、中央银行规定的银行所保持的最低准备金与存款的比率是： ( ) -->**D.法定准备率**

294、中央银行提高贴现率会导致： ( ) -->**C.货币供给量的减少和利率提高**

295、中央银行在公开市场上买进和卖出各种有价证券的目的是： ( 调节货币供给量 )。

296、周期性失业是指 ( ) 。-->**B.由于总需求不足而引起的短期失业**

297、属于国际收支平衡表中经常项目的是 ( 外国居民在本国旅游的消费 )。

298、属于国际收支平衡表中经常项目的是： ( ) -->**C.外国居民在本国旅游的消费**

299、属于国际收支平衡表中资本项目的是： ( 一国在别国发行债券的收入 )。

300、属于紧缩性财政政策工具的是 ( ) -->**A.减少政府支出和增加税收**

301、属于内在稳定器的财政政策工具是 ( ) 。-->**A.社会福利支出**

302、总效用达到最大时 ( ) -->**B.边际效用为零**

303、总需求曲线表明，随着物价水平的下降 ( ) 。-->**A.实际 GDP 增加**

304、总需求曲线向右下方倾斜是由于 ( ) -->**D.以上都是**

305、最全面反映经济中物价水平变动的物价指数： ( ) -->**C.GDP 平减指数**

306、最需要进行广告宣传的市场是 ( ) 。-->**C.垄断竞争市场**

307、作为经济学的两个组成部分，微观经济学与宏观经济学是 ( ) 。-->**C.相互补充的**

308、作为经济学的一个分支，微观经济学主要研究 ( ) -->**B.单个经济单位的行为判断(308)**

1、2003 年 12 月 31 日的外汇储备量是流量。-->**错**

2、需求管理包括财政政策和货币政策。 ( ) -->**对**

3、LM 曲线上的任何一点都表示货币市场的均衡。 ( ) -->**对**

4、M2 就是定期存款和储蓄存款。 ( ) -->**错**

5、“生产什么”、“如何生产”和“为谁生产”这三个问题被称为资源利用问题。 ( ) -->**错**

6、按贡献标准分配国民收入不会引起收入分配的不平等。 ( 错 )。

7、边际收益等于边际成本时，企业的正常利润达到最大化。-->**错**

8、边际收益等于边际成本时，企业的正常利润为零。 ( ) -->**错**

9、边际消费倾向越高，乘数就越大。 ( ) -->**对**

10、并不是所有的商品的供给量都会随着价格的上升而增加。 ( 对 )。

11、并不是所有商品的供给量都随价格的上升而增加。 ( ) -->**对**

12、不确定性和风险是一回事，都可以用概率的大小表示。-->**错**

13、财政政策和货币政策属于需求管理政策。-->**对**

14、产品差别是指不同产品在质量、包装、牌号或销售条件等方面存在的差别。 ( 错 )。

15、产品差别是指不同产品之间的差别。 ( 错 )。

16、长期平均成本曲线是一条与无数条短期平均成本曲线相切的曲线。 ( 对 )。

17、长期总供给曲线的位置取决于制度、资源与技术进步。 ( 对 )。

18、成本加成法就是根据估算的成本来决定产品的价格。 ( ) -->**对**

19、乘数的大小取决于边际消费倾向。 ( ) -->**对**

20、乘数等于边际储蓄倾向的倒数。 ( 对 )。

21、乘数发生作用是需要有一定条件。-->**对**

22、充分就业并不是指人人都有工作。-->**对**

23、充分就业和物价稳定是一致的，只要达到了其中一项，也就实现了另一项。 ( ) -->**对**

24、充分就业就是在一定年龄范围内的人都有工作。-->**错**

25、充分就业意味着失业率为零。 ( 错 )。

26、充分就业与任何失业的存在都是矛盾的，因此，只要经济中有一个失业者存在，就不能说实现了充分就业 -->**错**

27、从消费函数的稳定性中可以看出刺激消费的政策非常有效。-->**错**

28、存量和流量的区别在于，前者是一种静态意义上的变量，后者是一种动态意义上的变量。 ( 对 )。

29、存在外部性时，社会边际成本与私人边际成本、社会边际收益与私人边际收益都不一定相等。 ( 对 )。

30、存在外部性时，社会边际成本与私人边际成本、社会边际收益与私人边际收益都相等。-->**错**

31、当利率变动时，投资量的变动表现为投资函数曲线本身的移动。 ( ) -->**对**

32、当利率变动时，投资量的变动表现为投资函数曲线本身的移动。 ( ) -->**错**

33、当其他生产要素不变时，一种生产要素投入越多，则产量越高。-->**错**

34、当我们想让人们节约水时，提价是最有效的方法 ( ) -->**对**

35、当香蕉的价格为每公斤 3 元时，消费者购买 500 公斤香蕉，而水果商愿意提供 600 公斤香蕉。所以，3 元是香蕉的均衡价格。 ( ) 答案：错

36、地租上升使土地的供给不断增加。-->**错**

37、电力部门对工业用电与民用电实行不同的价格属于二级价格歧视。-->**错**

38、电力部门对一定量电力实行一种价格，对再增加的电力实行另一种价格。这种定价属于二级价格歧视。 ( 对 )。

39、短期边际成本曲线和短期平均成本曲线一定相交于平均成本曲线的最低点。 ( 对 )。

40、短期边际成本曲线与短期平均成本曲线的交点就是停止营业点。-->**错**

41、短期总供给不变时，总需求的变动会引起均衡的国内生产总值同方向变动，物价水平反方向变动。-->**错**

42、短期总供给不变时，总需求的变动会引起均衡的国内生产总值与物价水平同方向变动。 ( ) -->**对**

43、短期总供给曲线分为两部分，一部分向右上方倾斜，另一部分向上垂直。 ( ) 答：对

44、对“人们的收入差距大一点好还是小一点好”的研究属于实证方法。 ( ) -->**错**

45、繁荣的最高点是顶峰。 ( 对 )。

46、分配理论实际上是价格理论在分配问题上的应用。 ( 对 )。

47、分析技术效率时所说的短期是指 1 年以内，长期是指 1 年以上。 ( 错 )。

48、各种药品 ( 包括营养补品 ) 的需求弹性都是相同的。 ( 错 )。

49、根据 IS-L 模型，自发总支出的变动会使国内生产总值与利率变动。 ( ) -->**对**

50、根据 IS-LM 模型, 货币量的增加会引起国内生产总值减少, 利率下降。-->错

51、根据 IS-LM 模型, 自发总支出的变动会使国内生产总值与利率变动。(对)。

52、根据公共选择理论, 某种政策的产生一定符合整个社会的利益。-->错

53、根据简单的凯恩斯主义模型, 45°线和总支出曲线相交时, 收入与消费相等。-->错

54、根据简单的凯恩斯主义模型, 45°线和总支出曲线相交时, 收入与消费相等。(错)。

55、根据粘性工资理论, 物价水平的上升在短期内会增加就业。(对)。

56、根据总需求决定原理, 在资源没有得到充分利用时, 增加储蓄会使国内生产总值减少, 减少储蓄会使国内生产总值增加。( ) -->对

57、工资的变动通过替代效应和收入效应来影响劳动供给。-->对

58、公共物品的存在说明了依靠市场机制可以实现资源的有效配置。( ) -->错

59、公共物品的存在引起了搭便车问题。(对)。

60、公共物品实际上就是公用的物品。( ) -->错

61、公共物品只能由政府来提供。( ) -->错

62、供给的变动引起均衡价格一方向变动, 均衡数量( ) 方向变动。-->错

63、供给的增加将引起均衡价格的上升和均衡数量的减少。(错)。

64、固定汇率制和浮动汇率制各有其优缺点。(对)。

65、寡头市场上各企业之间存在着极为密切的关系。( ) -->对

66、寡头市场形成的基本条件是产品差别的存在。(错)。

67、规范方法的结论以研究者的阶级地位和社会伦理观为基础, 不同的研究者对同样的事物会得出不同的结论。  
对

68、规模经济和边际产量递减规律所研究的是同一个问题。(错)。

69、国内总需求的增加, 既可以增加国民收入, 又可以改善贸易收支状况, 因此是绝对有利的。(错)。

70、哈罗德经济增长模型认为, 如果有保证的增长率大于实际增长率, 经济就会出现高涨。(对)。

71、哈罗德-多马模型认为资本一产量比率是可变的。( )  
错

72、汉堡包与热狗之间的需求交叉弹性为正值。-->对

73、宏观经济学主要研究经济增长问题。(错)。

74、宏观经济政策应该达到的目标是实现经济稳定。-->对

75、汇率贬值会使国内生产总值增加, 贸易收支状况恶化。-->错

76、汇率贬值就是指用本国货币表示的外国货币的价格下跌了。(错)。

77、会计利润和经济利润不是一回事。-->对

78、货币乘数是银行所创造的货币量与最初存款的比例。( ) -->错

79、货币供给量的变动会使 LM 曲线的位置平行移动。(对)。

80、货币供给量就是指基础货币的变动量。-->错

81、货币数量论认为, 流通中的货币数量越多, 商品价格水平越低, 货币价值越大。-->错

82、货币数量论认为, 流通中的货币数量越多, 商品价格水平越高, 货币价值越小。(对)。

83、货币主义菲利普斯曲线所表示的失业与通货膨胀之间的交替关系只存在于长期中, 在短期中不存在。(错)。

84、货币主义和新凯恩斯主义对菲利普斯曲线作出了一致的解释。(错)。

85、货币主义认为, 菲利普斯曲线所表示的失业与通货膨胀交替关系在短期与长期内都存在, 主张政府干预经济。( )  
答: 错

86、货币主义认为, 菲利普斯曲线所表示的失业与通货膨胀交替关系在短期与长期内都存在, 主张政府干预经济。( ) -->错

87、技术进步是实现经济增长的必要条件。-->对

88、技术水平不变是指生产中所使用的技术没有发生变化。(错)。

89、甲、乙两国的基尼系数分别为-->对

90、甲、乙两国的基尼系数分别为 0.1 和 0.2, 那么甲国的收入分配要比乙国平均。(对)。

91、价格韧性的原因在于调整价格是需要付出代价的。  
对

92、价格管制就是政府对所有商品的价格都进行控制。( ) -->错

93、价格只有在一定的条件下才能起到调节经济的作用。(对)。

94、假定其他条件不变, 某种商品价格的变化将导致它的供给量变化, 但不会引起供给的变化。( ) -->对

95、假说就是某一理论所适用的条件。(错)。

96、简单规则的货币政策就是要保持货币供给量不变。( ) -->错

97、简单货币乘数就是法定准备率。( ) -->错

98、简单货币乘数就是银行所创造的货币量与法定准备率的比率。(错)。

99、今年建成并出售的房屋的价值和以前建成而在今年出售的房屋的价值都应计入今年的国内生产总值。-->错

100、经济繁荣与衰退的主要原因都在于投资的波动性。-->对

101、经济学按其研究方法的不同可以分为实证经济学与规范经济学。( ) -->对

102、经济学根据其研究范围的不同, 可分为微观经济学与宏观经济学。  
错

103、经济增长的最简单定义就是国内生产总值的增加和社会福利的增加以及个人福利的增加。(错)。

104、经济周期的中心是国内生产总值的波动。(对)。

105、经济周期的中心是价格与利率的波动。(错)。

106、居民购买住房属于个人消费支出。(错)。

107、居民购买住房属于投资。-->对

108、均衡的国民收入一定的等于充分就业的国民收入。(错)。

109、均衡的国内生产总值大于充分就业的国内生产总值时, 经济中存在失业。-->错

110、均衡的国内生产总值大于充分就业的国内生产总值时, 经济中存在通货膨胀的压力。(对)。

111、均衡的国内生产总值就是充分就业的国内生产总值。(错)。

112、均衡的国内生产总值可能大于、小于或等于充分就业的国内生产总值。-->对

113、开放经济就是参与国际贸易的一种经济。(对)。

114、开放经济中的总需求与封闭经济中的总需求是完全相同的。(错)。

115、凯恩斯认为, 引起总需求不足的根本原因是货币的过量发行。(错)。

116、凯恩斯主义的货币政策和货币主义的货币政策是相同的, 都是通过货币供给量来调节利率, 通过利率来影响总需求。-->错

117、凯恩斯主义所重视的宏观经济政策工具是需求管理。(对)。

118、粘性工资理论是指短期中名义工资的调整慢于劳动供求关系的变化。( ) -->对

119、扩张性货币政策的实行可以增加货币供给量, 从而使利率水平提高。(错)。

120、劳动的供给和其他商品的供给一样, 价格越高, 供给越多, 因此, 提高工资可以无限增加劳动的供给。(错)。

121、劳动的供给曲线是一条向右上方倾斜的曲线。( ) -->错

122、利率效应是指利率水平的变动对消费的影响。( ) -->错

123、利率效应是指物价水平通过对利率的影响而影响净出口。( ) -->错

124、利润最大化就是实现无限的利润。( ) -->错

125、利息是投资的成本。( ) -->错

126、利用等产量线上任意一点所表示的生产要素组合, 都可以生产出同一数量的产品。(对)。

127、两条无差异曲线的交点所表示的商品组合, 对于同一个消费者来说具有不同的效用。(错)。

128、两种生产要素的最适组合点就是无差异曲线与消费可能线的切点。(错)。

129、两种生产要素的最适组合点就是等产量线与等成本线的交点。(错)。

130、垄断竞争市场上, 企业的成功取决于产品差别竞争。( ) -->对

131、垄断市场上, 无论在短期还是在长期, 企业均可获得超额利润。-->错

132、卖者提高价格肯定能增加总收益。(错)。

133、贸易逆差就是出口大于进口。(错)。

134、没有预料到的通货膨胀有利于债务人, 而不利于债权人。(对)。

135、每一次经济周期并不完全相同。-->对

136、某人出售一幅旧油画所得到的收入应该计入当年的国内生产总值。(错)。

137、某项政策实施前, 基尼系数为 0.68, 该政策实施后, 基尼系数为 0.72, 所以说该政策的实施有助于实现收入分配平等化。(错)。

138、某一年的名义 GDP 与实际 GDP 之比就是物价指数。-->错

139、某种产品的价格上限一定高于其均衡价格。-->错

140、某种产品的价格上限一定高于其均衡价格。(错)。

141、某种产品的限制价格一定低于其均衡价格。(对)。

142、某种物品越是易于被替代, 其需求也就越缺乏弹性。(错)。

143、内在稳定器调节经济的作用是十分有限的, 它只能减轻萧条或通货膨胀的程度。(对)。

144、内在稳定器能够消除经济萧条和通货膨胀。-->错

145、内在稳定器有自发稳定经济的作用, 但其作用是十分有限的, 并不能代替财政政策的运用。(对)。

146、年 12 月 31 日的人口数量是存量。(对)。

147、年 12 月 31 日的外汇储备量是流量。(错)。

148、农产品的需求一般来说缺乏弹性, 这意味着当农产品的价格上升时, 农民的总收益将增加。( ) -->对

149、平等与效率是一对永恒的矛盾。-->对

150、平均消费倾向与平均储蓄倾向之和等于一。(对)。

151、歧视定价的基本原则是对需求富有弹性的消费者收取高价，而对需求缺乏弹性的消费者收取低价。(错)。

152、企业用自有资金进行生产是没有成本的。(错)。

153、企业用自有资金进行生产是有成本的。-->对

154、企业债券的利率高于政府债券的利率。-->对

155、如果对食盐的支出在家庭支出中只占一个极小的比例，那么对食盐的需求就是缺乏弹性的。(对)。

156、如果某国在某种产品的生产上具有绝对优势，它就不能从国际贸易中获得利益。-->错

157、如果农民种植的粮食用于自己消费，这种粮食的价值就无法计入国内生产总值内。( ) -->对

158、如果通货膨胀率相当稳定，而且人们可以完全预期，那么通货膨胀对经济的影响就很小。-->对

159、如果消费者从每一种商品中得到的总效用与它们的价格之比分别相等，他将获得最大效用。(错)。

160、如果消费者的收入增加而商品的价格不变，则无差异曲线向右上方平行移动。(对)。

161、如果一个经济中货币乘数是 5，如果中央银行想使货币供给量增加 500 万元时，只要在公开市场上购买 100 万元的政府债券就可以实现。(对)。

162、商业银行体系所能创造出来的货币量与法定准备率成正比，与最初存款成反比。( ) -->错

163、生产技术提高所引起的某种商品产量的增加称为供给量的增加。( ) -->错

164、生产可能性曲线凹向原点说明了随着一种物品生产的增加，机会成本在递增。-->对

165、生产可能性曲线凸向原点说明了随着一种物品生产的增加，机会成本在递减。(错)。

166、生产什么、如何生产和为谁生产这三个问题被称为资源利用问题。( ) -->错

167、生产要素的需求曲线是一条向右下方倾斜的曲线。(对)。

168、生产要素的需求是一种派生的需求和联合的需求。(对)。

169、失业率就是劳动力与工作年龄人口之比。(错)。

170、实际的基尼系数总是大于零而小于一。(对)。

171、实际的基尼系数总是大于一。-->错

172、实行赤字财政会使经济进入衰退。(错)。

173、实证方法要解决应该是什么的问题，规范方法要解决是什么的问题。( ) -->错

174、世界上许多城市对房租进行限制，这种作法称为价格下限。(错)。

175、世界石油价格下降有助于减少汽车的需求。-->错

176、世界石油价格下降有助于增加汽车的需求-->对

177、市场经济的基本特征是价格调节经济。(对)。

178、市场失灵的存在要求由政府来取代市场机制。( ) -->错

179、是否以一定的价值判断为依据是实证分析法和规范分析法的根本区别。(对)。

180、收益就是利润，因此收益最大化就是利润最大化。( ) 答：错

181、收益就是销售产品所得的利润，因此，收益最大化就是利润最大化。(错)。

182、随着工资水平的提高，劳动的供给量会一直增加。(错)。

183、所以说该政策的实施有助于实现收入分配平等化。( ) -->错

184、所有的公共物品都不能通过市场调节来解决。(错)。

185、所有商品的供给量都随价格的上升而增加。-->错

186、同一条线形需求曲线上不同点的弹性系数是相同的。-->对

187、同一条线形需求曲线上不同点的弹性系数是相同的。(错)。

188、土地的供给量随着地租的提高而增加，因而土地的供给曲线是一条向右上方倾斜的曲线。(错)。

189、完全竞争和垄断竞争的区别主要在于产品是否有差别。(对)。

190、微观经济学的中心理论是价格理论，宏观经济学中心理论是国民收入决定理论。( ) 答案：对

191、微观经济学和宏观经济学是相互补充的。-->对

192、微观经济学要解决问题是资源利用，宏观经济学要解决的问题是资源配置。(错)。

193、无差异曲线离原点越远，表示消费者所得到的总效用越小。( ) 答案：错

194、无论哪个行业，企业的规模并不是越大越好。-->对

195、无论哪个行业，企业的规模并不是越大越好。(对)。

196、无论哪个行业，企业的规模都是越大越好。(错)。

197、无论什么人，只要没有找到工作就是失业。(错)。

198、无论在长期或短期中都存在的失业就是自然失业。-->错

199、物价上升时，利率效应使投资增加，总需求减少。-->错

200、物价上升时，利率效应使投资增加，总需求增加。( ) -->错

201、物价稳定就是通货膨胀率为零。(错)。

202、现代寡头理论运用古诺模型和折弯的需求曲线来研究寡头的行为。-->错

203、现代经济的特征之一是迂回生产过程加长，从而生产效率提高。(对)。

204、限制价格是政府规定的某种产品的最低价格。(错)。

205、消费和储蓄都与收入成同方向变动，所以，收入增加，消费和储蓄都可以增加。(对)。

206、消费者从物品消费中所获得的总效用一定是不断增加的，边际效用总是正的。(错)。

207、消费者对某物品的需求量与价格成反方向变动是因万边际效用递减扩( ) -->对

208、消费者均衡点可以是无差异曲线与消费可能线的交点，也可以是它们的切点。(错)。

209、消费者均衡点是等产量线与等成本线的相切点。(错)。

210、消费者消费的一种物品越多，其满足程度越大。(错)。

211、消费者要获得最大的效用，就应该把某种商品平均地分配到不同的用途中去。( ) 错

212、效率工资由劳动的供求关系决定。(错)。

213、效用就是使用价值。( ) -->错

214、新古典经济增长模型认为，在长期中实现均衡增长的条件是利润和工资在国民收入中要保持一个古典的比率。(错)。

215、新古典模型认为，资本劳动比率的改变是通过价格的调节进行的。(对)。

216、新加入劳动力队伍，正在寻找工作而造成的失业属于摩擦性失业。(对)。

217、新剑桥模型认为，经济增长是以加剧收入分配的不平等为前提的，经济增长的结果也必然加剧收入分配的不平等。-->对

218、需求的弹性系数是价格变动的绝对量与需求量变动的绝对量的比率。( ) -->错

219、需求的价格弹性是指需求的变动对价格变动的反应程度。( ) -->错

220、需求的减少会引起均衡价格的下降和均衡数量的减少。( ) -->错

221、需求的减少会引起均衡价格的下降和均衡数量的减少。( ) -->对

222、需求管理包括财政政策和货币政策。( ) -->对

223、需求量是流量。(对)。

224、序数效用论认为，商品效用的大小取决于它的使用价值。(错)。

225、一般来说，会计利润大于经济利润。(对)。

226、一般情况下，供给在长期比短期更富有弹性。(对)。

227、一般所说的通货膨胀率就是指消费物价指数的变动。( ) -->对

228、一场台风摧毁了某地区的荔枝树，市场上的荔枝少了，这称为供给减少。-->对

229、一场台风摧毁了某地区的荔枝树，市场上的荔枝少了，这称为供给量减少。(错)。

230、一个企业生产规模过大会引起管理效率降低，这样所引起的产量或收益的减少属于外在经济。(错)。

231、一种物品效用的大小表明它在生产中的作用有多大。( ) 答：错

232、一种物品效用的大小表明它在生产中的作用有多大。( ) -->错

233、因为资源是稀缺的，所以产量是既定的，永远无法增加。( ) -->错

234、用先进的机器代替工人的劳动，会使劳动的需求曲线向右移动。( ) 答：错

235、用先进的机器代替工人的劳动，会使劳动的需求曲线向左移动。-->对

236、用消费物价指数、生产物价指数和 GDP 平减指数所计算出的物价指数是相同的。(错)。

237、由物价水平变动所引起的总需求变动与由政府支出所引起的总需求变动在总需求曲线上是不同的。(对)。

238、由于公共物品不能通过市场出卖，政府就要通过强制征税来为题公共物品筹资。(对)。

239、由于寡头之间可以进行勾结，所以，他们之间并不存在竞争。(错)。

240、由于经济中正常的劳动力流动而引起的事属于求职性失业。(错)。

241、由于影碟和影碟机是互补品，因此当影碟机的价格下降时，对影碟的需求就会减少。(错)。

242、在按支出法、收入法和部门法三种方法计算出的国内生产总值不一致时，以按支出法计算的国内生产总值为标准。(对)。

243、在不同的经济制度下，资源配置与资源利用问题的解决方法是不同的。(对)。

244、在财政政策中，转移支付的增加可以增加私人消费。-->对

245、在长期中，长期总供给曲线是一条垂线。(对)。

246、在长期中无所谓固定投入与可变投入之分。(对)。  
 247、在短期，平均可变成本曲线是一条先下降而后上升的 U 形曲线。( ) -->**对**  
 248、在短期，企业增加一单位产量时所增加的可变成本等于边际成本。( ) -->**对**  
 249、在短期内，价格的粘性引起物价水平与总供给反方向变动。-->**错**  
 250、在短期中，所有的生产要素均不能调整。(错)。  
 251、在浮动汇率制下，中央银行不能对汇率有任何干预。(错)。  
 252、在工作年龄人口中，所有人都是劳动力。( ) -->**错**  
 253、在固定汇率制下，一国货币对他国货币的汇率基本固定，只在一定范围内波动。(对)  
 254、在货币市场上，货币供给增加使利率上升。( )。-->**错**  
 255、在解释菲利普斯曲线时，货币主义运用的是理性预期的概念。( )。-->**错**  
 256、在经济繁荣时期，总需求大于总供给，经济中存在通货膨胀，政府通过紧缩性的财政政策来压抑总需求，可以实现物价稳定。(对)。  
 257、在经济分析中，内生变量与外生变量的区别取决于理论所作出的假设。(对)。  
 258、在开放经济中，出口的增加会使国内生产总值增加，贸易收支状况改善。(对)。  
 259、在开放经济中，对外贸易乘数大于一般的乘数。(错)。  
 260、在开放经济中，对外贸易乘数小于一般的乘数。-->**对**  
 261、在开放经济中，国内支出(即国内总需求)与对国内产品支出(即对国内产品总需求)是两个不同的概念。(对)。  
 262、在开放经济中，国内总需求增加，既可增加国内生产总值，又可以改善贸易收支状况。(错)。  
 263、在垄断竞争市场上，平均收益曲线、边际收益曲线和需求曲线是重合在一起的。(错)。  
 264、在垄断市场上，边际收益一定大于平均收益(错)。  
 265、在垄断市场上，由于只有一家企业，因此它可以随意定价。(错)。  
 266、在其他条件不变的情况下，当人们收入增加时，休闲类书籍的价格会上升，需求量会增加。( )。-->**对**  
 267、在其他条件不变的情况下，当生产手机的技术提高时，手机价格会下降，产量会减少。(错)。  
 268、在任何经济中，只要存在着通货膨胀的压力，就会表现为物价水平的上升。(错)。  
 269、在任何情况下，乘数原理都是适用的。(错)。

270、在任何情况下，商品的价格与需求量都是反方向变动的。(错)。  
 271、在任何投资决策中都要考虑机会成本。(错)。  
 272、在商品过剩的条件下，厂商之间的竞争会压低价格；反之，若商品短缺，居民之间的竞争会抬高价格。(对)。  
 273、**在市场经济中，价格的调节可以使资源配置达到最优状态。( )**  
 答：对  
 274、在市场经济中，收入分配的原则是兼顾平等和效率。(错)。  
 275、在收入分配中，分配的原则是效率优先，兼顾公平。(对)。  
 276、在同一平面图上，可以有几条不同的等产量线。-->**对**  
 277、在同一条无差异曲线上，不同的消费者所得到的总效用是无差别的。(错)。  
 278、在同一条消费可能线上，消费者的支出是不同的。( ) -->**错**  
 279、在完全竞争条件下，个别企业销售量的变动会影响市场价格的变动。( ) -->**错**  
 280、在完全竞争市场上，任何一个企业都可以成为价格的决定者。(错)。  
 281、在完全竞争条件下，不论企业的收益能否弥补可变成本，无论如何都不能再进行生产了。-->**错**  
 282、在无差异曲线与消费可能线的交点上，消费者所得到的效用达到最大。-->**错**  
 283、在无差异曲线与消费可能线的切点上，消费者所得到的效用达到最大。-->**对**  
 284、在物品市场上，利率与国内生产总值成反方向变动是因为利率与投资成反方向变动。(对)。  
 285、在物品市场上，利率与国内生产总值成同方向变动。-->**错**  
 286、在现实经济中，由供求关系所决定的价格对经济一定是有利的。(错)。  
 287、在萧条时期，为了刺激总需求，中央银行要在公开市场上卖出有价证券。(错)。  
 288、在萧条时期，中央银行要运用扩张性的货币政策，而在经济繁荣时期，则要运用紧缩性的货币政策。(对)。  
 289、在研究一个国家的经济发展战略这样的重大问题时，可以完全抛开价值判断，进行实证研究。(错)。  
 290、在一般情况下，价格与需求量是成反方向变动的。(对)。  
 291、**在一个国家里，自然失业率是一个固定不变的数。( )**  
 答：错

292、在资源没有得到充分利时，增加储蓄会使国内生产总值减少，减少储蓄会使国内生产总值增加。(对)。  
 293、造纸厂附近的居民会受到造纸厂污染的影响，这就是负的外部性。(对)。  
 294、正常利润是对承担风险的报酬。( ) -->**错**  
 295、政府失灵就是市场调节无法实现资源的最优配置。(错)。  
 296、只要商品的数量在增加，消费者得到的总效用就一定在增加。-->**错**  
 297、只要通货膨胀率低，就一定是爬行的通货膨胀，只要通货膨胀率高，就一定是恶性的通货膨胀。(错)。  
 298、只要需求富有弹性的商品才能薄利多销。(对)。  
 299、**只要有技术进步，经济就可以实现持续增长。**  
 错  
 300、只要有人类社会，就会存在稀缺性。(对)。  
 301、只要总产量减少，边际产量一定是负数。(对)。  
 302、只有在完全竞争市场上，平均收益才等于边际收益，其他市场上都不存在这种情况。(对)。  
 303、中央银行和商业银行都对货币供给有决定作用。(对)。  
 304、周期性失业就是总需求不足所引起的失业。( ) -->**对**  
 305、资本具有净生产力是资本能带来利息的根源。(对)。  
 306、资源的稀缺性决定了资源可以得到充分利用，不会出现资源浪费的现象。(错)。  
 307、资源的稀缺性决定了资源可以得到充分利用，不会出现资源浪费现象。( ) -->**错**  
 308、**自发消费随收入的变动而变动，它取决于收入和边际消费倾向。**  
 错  
**填空(312)**  
 1、如果某种商品是需求富有弹性的，则价格与总收益呈 ( ) 变动；如果某种商品是需求缺乏弹性的，则价格与总收益呈 ( ) 变动。  
 反方向；同方向  
 2、“生产什么”、“如何生产”和“为谁生产”是人类社会所必须解决的基本问题，这三个问题被称为 ( ) 问题。-->**资源配置**  
 3、需求的变动引起均衡价格 ( ) 方向变动，均衡数量 ( ) -->**同向**  
 4、A 国总需求增加引起 B 国国民收入增加，这种情况称为(溢出效应)，反过来，B 国国民收入增加又引起 A 国国民收入增加，则被称为(回波效应)。

5、GDP-折旧= ( )。-->**NDP**  
 6、LM 曲线向 ( ) 倾斜，表明在货币市场上国内生产总值与利率成同方向变动。-->**右上方**  
 7、LM 曲线向(右上方)倾斜，表明在货币市场上国内生产总值与利率成同方向变动。IS 曲线是描述物品市场达到均衡时，(国内生产总值)与(利率)之间存在着(反方向)变动关系的曲线。  
 I.S-LM 模型是说明(物品市场)与(货币市场)同时达到均衡时，(国内生产总值)与(利率)决定的模型。  
 8、M1= ( ) + ( ) -->**通货、商业银行活期存款**  
 9、M1= (通货) + (商业银行存款)，M2= (M1) + (定期存款)与(储蓄存款)。  
 10、( ) 根据货币数量论，在长期中通货膨胀发生的惟一原因是 ( )。-->**货币量增长**  
 11、( ) 价格管制是政府控制垄断者产品的价格。这种方法主要用于自然垄断行业，其原则有三种，一是 ( )，二是 ( )，三是确定一个合理的资本回报率，按成本加这种回报率定价。-->**边际成本定价；平均成本定价**  
 12、( ) 紧缩性缺口引起 ( ) 失业，膨胀性缺口引起 ( ) 的通货膨胀。-->**周期性；需求拉上**  
 13、( ) 净现值是指一笔投资未来所带来的 ( ) 与现在投入的资金现值的差额。-->**收入现值**  
 14、( ) 生产一单位产量所需要的资本量被称为 ( )。-->**产量比例**  
 15、( ) 银行所创造的货币量与最初存款的比例称为 ( )，货币供给量与基础货币两者之间的比例是 ( )。-->**简单货币乘数；货币乘数**  
 16、( ) 拥有信息多的一方以自己的信息优势来侵犯拥有信息少的一方的利益，实现自己利益的可能性被称为 ( )。-->**道德危险**  
 17、( ) 在影响总需求的财产效应、利率效应和汇率效应中，( ) 效应最重要。-->**利率**  
 18、按当年价格计算的国内生产总值称为(名义的国内生产总值)，按不变价格计算的某一年的国内生产总值称为(实际国内生产总值)。  
 19、边际产量递减规律发生作用的前提是(技术水平不变)。  
 20、边际产量曲线与平均产量曲线相交于 ( ) 曲线的最高点。-->**平均产量**  
 21、**边际进口倾向是指 ( ) 增加在 ( ) 增加中所占的比例。**  
 进口 国内生产总值  
 22、边际消费倾向越低，乘数 ( )。-->**越低**  
 23、边际消费倾向越高，乘数(越大)；边际消费倾向越低，乘数(越小)。  
 24、边际效用是指某种物品的消费量每增加一单位所增加的(满足程度)。  
 25、补偿性财政政策是指在(经济萧条)时，增加政府支出，减少税收，使财政有赤字；而在(经



111、货币数量论的基本观点是，商品的价格水平和货币的价值是由（流通中货币的数量）决定的。

112、货币主义者认为，货币政策应该根据经济增长的需要，按一固定比率增加货币供给量，这被称为（简单规则）的货币政策。

113、**基尼系数越小，收入分配（）；基尼系数越大，收入分配（）。**  
越平均；越不平均

114、基数效用论采用的是分析法，序数效用论采用的是（）分析法。-->**边际效用；无差异曲线**

115、技术效率是（生产要素与产量）的关系，经济效率是（成本与收益）的关系。

116、技术效率是（）的关系。-->**投入生产要素与产量；成本与收益**

117、加速原理表明投资的变动取决于（）。-->**产量变动率**

118、价格管制是政府控制垄断者产品的价格。这种方法主要用于自然垄断行业，其原则有三种，一是（边际成本定价），二是（平均成本定价），三是确定一个合理的资本回报率，按成本加这种回报率定价。

119、价格上限是政府为了限制某种商品价格上涨而规定的这种商品的（最高）价格。

120、价格下限一定（高于）均衡价格，价格上限一定（低于）均衡价格。

121、简单的凯恩斯主义模型说明了在短期中，（）是决定均衡国内生产总值的最重要因素。-->**总需求**

122、简单规则的货币政策就是根据经济增长的需要，按一固定比率增加（）。-->**货币供给量**

123、结构性失业是由于经济中一些制度上的原因引起的，这些制度上的原因主要包括：

124、金融中介机构在经济中有一种特殊的作用，即（可以创造货币）。

125、紧缩性缺口是指实际总需求（小于）充分就业总需求时，实际总需求与充分就业总需求之间的差额，膨胀性缺口是指实际总需求（大于）充分就业总需求时，实际总需求与充分就业总需求之间的差额。

126、紧缩性缺口引起（）失业，膨胀性缺口引起（）的通货膨胀-->**周期性需求拉上**

127、紧缩性缺口引起（周期性）失业，膨胀性缺口引起（需求拉动）的通货膨胀。

128、经济学家把失业分为两种情况。一种是由于各种难以克服的原因引起的失业，这种失业称为（自然失业）。另一种是由于经济中总需求不足引起的失业，这种失业称为（周期性失业）。

129、经济学研究方法中的实证方法要回答的问题是（），规范方法要回答的问题是（）-->**是什么 应该是什么**

130、经济增长的前提是（制度）的建立与完善，源泉是（资源）的增加，核心是（技术进步）。

131、经济增长的源泉是（）的增加，核心是（）。-->**资源技术进步**

132、经济增长是指（国内生产总值或人均国内生产总值）的增加。

133、经济中的通货膨胀与通货紧缩一般用（物价指数）来表示，衡量通货膨胀的指标是（物价指数）。

134、经济周期的中心是（国内生产总值的波动）。

135、经济周期是经济中（繁荣）与（衰退）交替。

136、经济租是指（）。-->**生产要素所有者所得到的实际收入高于他们所希望得到的收入的差额**

137、具有内在稳定器作用的财政政策，主要是（）、（）以及（）。-->**个人所得税公司所得税各种转移支付**

138、具有内在稳定器作用的财政政策，主要是（个人所得税）、（公司所得税）以及（各种转移支付）。

139、决定经济增长的因素是（制度）（资源）和（技术）

140、均衡价格是某种商品的（供给量）与（需求量）相等时的价格。

141、开放经济中的乘数（）封闭经济中的乘数。-->**小于**

142、凯恩斯认为，决定消费需求的因素是（），决定投资需求的因素是（）。-->**国内生产总值水平与边际消费倾向；预期的未来利润率（资本边际效率）与利率水平**

143、凯恩斯主义货币政策的工具主要有（公开市场业务）、（贴现政策）、（准备率政策）。

144、凯恩斯主义货币政策的直接目标是（利率），最终目标是（总需求的变动）。

145、扩张性财政政策包括（增加政府支出和减少税收），紧缩性财政政策包括（减少政府支出和增加税收）。

146、劳动的供给曲线是一条（向后弯曲）的曲线。

147、劳动的需求曲线是一条（）的曲线，这表明劳动的需求量与工资成（）变动。-->**向右下方倾斜；反方向**

148、劳动的需求曲线是一条（向右下方倾斜）的曲线，这表明劳动的需求量与工资成（反方向）变动。

149、劳伦斯曲线是用来衡量（）的曲线。-->**社会收入分配(或财产分配)平均程度**

150、利率效应就是物价水平通过对利率的影响而影响（投资）。

151、利润最大化就是要同时实现（技术）效率与（经济）效率。

152、利息是（资本）这种生产要素的价格。

153、两种互补商品之间价格与需求成（）方向变动，两种替代商品之间价格与需求成（）方向变动。-->**反；同**

154、垄断企业对卖给不同消费者的同样产品确定相同的价格，这种定价策略称为（单一定价），对卖给不同消费者的同样产品收取不同的价格，这种定价策略称为（歧视定价）。

155、垄断企业对卖给不同消费者的同样产品收取不同的价格，方向变动。这种定价策略称为（歧视定价），这种定价策略称为（歧视定价）。

156、垄断企业对卖给不同消费者的同样产品收取不同的价格，这种定价策略称为（歧视定价）。

157、垄断企业实行歧视定价可以实现更大的利润，其基本原则是对需求富有弹性的消费者收取（低）价，对需求缺乏弹性的消费者收取（高）价。

158、垄断企业是价格的（），它按照自己规定的价格出售产品，而不像完全竞争企业那样是价格的（），按照既定的市场价格出售产品。-->**决定者；接受者**

159、垄断企业是价格的（决定者），它按照自己规定的价格出售产品，而不像完全竞争企业那样是价格的（接受者），按照既定的市场价格出售产品。

160、贸易赤字是指（）。-->**出口小于进口**

161、每次经济周期并不完全相同，但它们却有相同之点，即每个周期都是（萧条）和（繁荣）的交替。

162、名义国内生产总值是指（）。-->**按当年价格计算的国内生产总值**

163、名义国内生产总值与实际国内生产总值之比称为（国内生产总值平减指数）。

164、摩擦性失业是经济中由于（）而引起的失业。-->**正常的劳动流动**

165、某银行吸收存款 1000 万元，按规定应留 200 万元作为准备金，这时的法定准备率为（）；通过银行的信贷活动，可以创造出的货币额为（）万元。-->**5000**

166、**内存均衡是指（），外在均衡是指（）。**  
充分就业与物价稳定 国际收支平衡

167、能够做到薄利多销的商品是需求（）弹性的商品。-->**富有**

168、平均消费倾向与平均储蓄倾向之和等于（），边际消费倾向与边际储蓄倾向之和等于（）。-->**11**

169、企业支付给工人的高于市场均衡工资的工资被称为（）。-->**效率工资**

170、如果把 1995 年作为基期，物价指数为 100,2001 年作为现期，物价指数为 12 则从 1995 年到 2001 年期间的通货膨胀率为（）-->**20%**

171、如果把 1995 年作为基期，物价指数为 100,2001 年作为现期，物价指数为 115，则从 1995 年到 2001 年期间的通货膨胀率为（）。-->**15%**

172、如果把等产量线与等成本线合在一个图上，那么等成本线必定与无数条等产量线中的一条相切于一点，在这个切点上就实现了（生产要素最适组合或生产者均衡）。

173、如果把无差异曲线与消费可能线合在一个图上，那么消费可能线必定与无数条无差异曲线中的一条相切于一点，在这个切点上就实现了（）。-->**消费者均衡**

174、如果交叉弹性为负值，则两种商品为（）关系。-->**互补**

175、如果某种商品需求缺乏弹性而供给富有弹性，则税收就主要落在（）身上。-->**消费者**

176、如果一件事件未来的可能结果可以用概率表示就是（）-->**风险**

177、商业银行体系所能创造出来的货币量与法定准备率成（反）比，与最初存款成（正）比。

178、生产可能性曲线是在（资源）既定的条件下所能达到的两种物品最大产量的组合。

179、生产要素的边际收益曲线是一条（向右下方倾斜）的线，这条曲线也是生产要素的（需求）曲线。

180、生产一单位产量所需要的资本量被称为（资本产量比率）。

181、失业率是（失业人数）占（劳动总数）的百分比。

182、实现经济增长的必要条件是（技术进步），经济增长的充分条件是（制度和意识的相应调整）。

183、**市场机制又称价格机制，是指价格调节社会经济生活的（）。**  
方式与规律

184、市场经济的决策机制是（分散决策），协调机制是（价格），激励机制是（个人物质利益）。

185、市场经济就是一种用（）机制来决定资源配置的经济体制。-->**价格**

186、市场经济与计划经济的差别主要表现在三个基本问题上，一是（）不同，二是（）不同，三是激励机制不同。-->**决策机制；协调机制**

187、市场上具有垄断地位的企业为了增加利润而提高价格所引起的通货膨胀称为（）的通货膨胀。-->**利润推动**

188、市场失灵指在有些情况下仅仅依靠（价格调节）并不能实现资源配置最优。

189、是否以一定的（）为依据，是实证方法与规范方法的重要区别之一。-->**价值判断**

190、是否以一定的（价值判断）为依据，是实证方法与规范方法的重要区别之一。

伯仲教育国开期末复习资料，仅供我校大专科学员期末复习使用，严禁外传。

191、适度规模就是指生产规模的扩大正好使（收益递增）达到最大。  
192、适度规模就是指生产规模的扩大正好使达到最大。-->**收益递增**  
193、收入再分配政策主要有两大类，即（）和（）。-->**税收；社会福利政策**  
194、收入再分配政策主要有两大类，即（税收）和（社会福利政策）。  
195、说明长期中货币决定价格的理论是（）-->**货币数量论**  
196、说明长期中货币决定价格的理论是（货币数量论）。  
197、替代效应使价格上升的商品需求量（）收入效应使价格上升的商品需求量-->**减少减少**  
198、停止营业点是由（平均可变成本）与（价格水平）决定的。  
199、同一条需求曲线上的移动称为（需求量变动），需求曲线的平行移动称为（需求的变动）。  
200、投资函数是一条向（右下方）倾斜的曲线。  
201、投资函数是指（投资与利率）之间的关系。  
202、外部性指某种经济活动给与这项活动无关的（）带来的影响。-->**主体**  
203、外部性指某种经济活动给与这项活动无关的（主体）带来的影响。  
204、微观经济学的研究对象是（单个经济单位的经济行为），宏观经济学研究的对象是（整个经济）。  
205、微观经济学的中心理论是（价格理论），宏观经济学的中心理论是（国民收入决定理论）。  
206、微观经济学解决的问题是（），宏观经济学解决的问题是（）。-->**资源配置；资源利用**  
207、无差异曲线是用来表示两种商品的不同数量的组合给消费者所带来的（效用）完全相同的一条曲线。  
208、无论什么原因，名义工资的粘性是客观存在的，这种工资粘性引起物价与短期总供给（同方向）变动。  
209、物价水平普遍而持续的上升称为（），物价水平普遍而持续的下降称为（）。-->**通货膨胀，通货紧缩**  
210、物价水平普遍而持续的上升称为（）。-->**通货膨胀**  
211、西方经济学根据其（研究对象）的不同，可分为（微观经济学）和（宏观经济学）。  
212、西方经济学是研究（市场经济）制度下，资源（配置）和（利用）的科学。  
213、稀缺性就是指资源的（）有限性。-->**相对**  
214、稀缺性就是指资源的（相对）有限性。  
215、现代寡头理论就是运用（）论来研究寡头行为。-->**博弈**

216、消费函数图中的 45°线表示在这条线上任何一点都是（），在简单的凯恩斯主义模型中，45°线上表示任何一点都是（）。-->**收入与消费相等 总需求与国内生产总值相等**  
217、消费函数图中的 45deg:线表示在这条线上任何一点都是（收入等于消费）。  
218、消费可能线的假设条件是（消费者收入即定）和（商品价格即定）。  
219、消费可能线的限制条件可用公式表示为： $(M = PxQx + PyQy)$ 。  
220、消费可以分为两个部分，一部分是不取决于收入的（）消费，另一部分是随收入变动而变动的（）消费。-->**自发引致**  
221、消费者对某种物品的需求量与价格成反方向变动的的原因在于（边际效用）递减。  
222、消费者均衡研究的是消费者在（收入）既定的情况下，如何实现（效用最大化）。  
223、消费者愿意对某种物品所支付的价格与他实际支付的价格的差额称为（）。-->**消费者剩余**  
224、效率工资是指企业支付给工人的（）的工资。-->**高于市场均衡**  
225、效率工资是指企业支付给工人的（高于市场均衡工资）的工资。  
226、信息不对称就是双方拥有的信息是（数量）与（质量）不同。  
227、形成垄断的关键条件是（进入限制）。  
228、需求弹性是指（需求量）的变动对（价格）变动的反应程度。  
229、需求的变动引起均衡价格（同）方向变动，均衡数量（同）方向变动。  
230、需求的变动引起均衡价格（同方向）变动，供给变动引起均衡价格（反方向）变动。供给的减少和需求的增加将引起均衡价格（上升）。  
231、需求的变动引起均衡价格与均衡数量（）方向变动。-->**同**  
232、需求定理表明商品价格与需求量反方向变动的关系是（）效应和（）效应共同作用的结果。-->**收入；替代**  
233、需求管理包括（财政政策）和（货币政策）。  
234、需求管理是通过调节（总需求）来达到一定的政策目标的宏观经济政策工具。  
235、需求理论表明，需求量与价格成（反方向）变动，这个规律的根源在于（边际效用递减规律）。  
236、需求缺乏弹性是指需求量变动的比率（小于）价格变动的比率，需求富有弹性则是指需求量变动的比率（大于）价格变动的比率。  
237、选择包括三个相关的问题，即（生产什么）、（如何生产）和（为谁生产），这三个问题被称为（资源配置）问题。  
238、选择就是如何使用（有限资源）的决策。

239、研究生产要素最适组合时采用的是（边际）分析法和（等产量）分析法。  
240、研究消费者行为的基数效用论认为，效用可以（），因此效用的大小可以用基数表示。-->**计量并加总求和**  
241、一般地说，收入弹性为正值的商品是（正常）商品，收入弹性为负值的商品是（低档）商品。  
242、一般用（）、（）两个标准来判断一个市场的集中程度。-->**四家集中率赫芬达尔—赫希曼指数(或HHI)**  
243、一个完整的理论包括定义、（假设）、（假设）和预测。  
244、一国总需求与国内生产总值增加对别国的影响，称为（）。反过来，别国由于“溢出效应”所引起的国内生产总值增加，又会通过进口的增加使最初引起“溢出效应”的国家的国内生产总值再增加，这种影响被称为（）。-->**溢出效应；回波效应**  
245、以市场调节为基础，又有政府适当干预的经济制度被经济学家称为（混合经济）。  
246、银行所创造的货币量与最初存款的比例称为（简单货币乘数），货币供给量与基础货币两者之间的比例是（货币乘数）。  
247、引致消费取决于（边际消费倾向）和（收入）。  
248、影响供给弹性的最重要的因素是（）-->**时间**  
249、拥有信息多的一方以自己的信息优势来侵犯拥有信息少的一方的利益，实现自己利益的可能性被称为（道德危险）。  
250、用公式表示消费者均衡的限制条件和均衡条件： $(PxQx + PyQy = M)$ 、 $(MUx / Px = MUy / Py = Mum)$ 。  
251、由于机会成本并不是实际支出，没有反映在会计账目上，因此被称为（）成本-->**隐性**  
252、由于政府引起的资源配置失误就是（）。-->**政府失灵**  
253、由于资本而提高的生产效率就是（）。-->**资本的净生产率**  
254、约劳动力与工作年龄人口之比称为（）。-->**劳动力参工率**  
255、在 IS 曲线不变的情况下，货币量增加，LM 曲线向（）移动，从而国内生产总值（），利率（）。-->**右、上方增加、上升**  
256、在 LM 曲线不变的情况下，自发总支出增加，IS 曲线向（）移动，从而国内生产总值-->**右上方增加上升**  
257、在 LM 曲线不变的情况下，自发总支出增加，IS 曲线向（右上方）移动。从而国内生产总值（增加），利率（上升）；在 IS 曲线不变的情

况下，货币量增加，LM 曲线向（右下方）移动，从而国内生产总值（增加），利率（下降）。  
258、在长期边际成本曲线与长期平均成本曲线相交之前，长期边际成本（）长期平均成本；而在相交之后，长期边际成本（）长期平均成本。-->**小于；大于**  
259、在短期，价格的粘性引起物价与总供给（）变动。-->**同方向**  
260、在短期，价格的粘性引起物价与总供给（）变动。同方向 42、消费可以分为两个部分，一部分是不取决于收入的（）消费，另一部分是随收入变动而变动的（）消费。  
261、在短期，价格的粘性引起物价与总供给（同方向）变动。  
262、在分析技术效率时，短期是指（企业不能全部调整所有生产要素投入）的时期。  
263、在供给与供给量的变动中，价格变动引起（）变动，而生产技术的变动引起（）的变动。-->**供给量；供给**  
264、在宏观经济政策工具中，常用的有（）、（）以及国际经济政策。-->**需求管理；供给管理**  
265、在宏观经济政策工具中，常用的有（需求管理）、（供给管理）以及国际经济政策。  
266、在简单的凯恩斯主义模型中，450 线上表示任何一点都是（）-->**总支出与总供给相等**  
267、在经济分析中，利润最大化的原则是（）。-->**边际收益等于边际成本 (MR=RC)**。  
268、在经济萧条时期，应该采用（）的货币政策；在经济繁荣时期，应该采用的货币政策。-->**扩张性紧缩性**  
269、在经济萧条时期，应该采用（扩张性）的货币政策；在经济繁荣时期，应该采用（紧缩性）的货币政策。  
270、在开放经济中，出口的增加会使均衡的国内生产总值（增加），贸易收支状况（改善）。  
271、在开放经济中，国内总需求的减少会使 AD 曲线向（）移动，从而使均衡的国内生产总值（），贸易收支状况（）。-->**右下方；减少；改善**  
272、在开放经济中，国内总需求的减少会使 AD 曲线向（左下方）移动，从而使均衡的国内生产总值（减少），贸易收支状况（改善）。  
273、在开放经济中，国内总需求的增加会使 AD 曲线向（右上方）移动，从而使均衡的国内生产总值（增加），贸易收支状况（恶化）。  
274、在开放经济中，决定国内国内生产总值的总需求是指（对国内产品的总需求）。  
275、在垄断竞争市场上，（存在）产品差别，厂商数量（较多）。  
276、在垄断竞争市场上，短期均衡的条件是（），长期均衡的条件是（）。-->**MR=MCMR=MC、AR=AC**

277、在垄断竞争市场上，企业的成功取决于（）  
竞争。

产品差别

278、在垄断市场上，企业的成功取决于（）竞争。-->产品差别

279、在同一条供给曲线上，向上方移动是供给量（），向下方移动是供给量（）。-->增加；减少

280、在图形上，供给量的变动表现为（），供给的变动表现为（）。

同一条供给曲线上的移动 整个供给曲线的移动

281、在图形上，供给量的变动表现为（）供给的变动表现为（）。-->同一条供给曲线上的移动，整个供给曲线的移动

282、在完全竞争市场上，长期中厂商无法获得超额利润，只要获得（正常利润）就是实现利润最大化。

283、在完全竞争市场上，平均收益（）边际收益；而在其他市场上，一般是平均收益（）边际收益。-->等于；大于

284、在完全竞争市场上，平均收益（等于）边际收益；而在其他市场上，一般是平均收益（大于）边际收益。

简答(42)

- 1、从投资的角度说明总需求曲线向右下方倾斜的...
- 2、各国在不同时期都采用过赤字财政政策，分析赤...
- 3、根据国内生产总值的定义解释，下列哪些项目应...
- 4、根据经济增长理论，应该如何实现我国经济的长...
- 5、根据经济增长理论，应该如何实现我国经济的长...
- 6、根据下列给出的数字，用支出法计算 GDP。...
- 7、根据总需求分析说明增加国内总需求对我国经...
- 8、国防、钢铁厂的污染、特大企业的存在都会引...
- 9、划分市场结构根据什么标准？市场结构有哪几种...
- 10、简要说明决定经济增长的因素。...
- 11、结合图形，用供求定理和需求弹性理论说明石油...
- 12、每年春节铁路运输都紧张，票贩子活动猖獗。...
- 13、目前，保持我国经济增长的关键是增加国内需求...
- 14、汽车价格下降、汽车保险价格下调，以及收入增...
- 15、如果考虑到提高生产者的收入，那么对农产品和...
- 16、如果你是一家服装企业的经理，你在这个垄断竞...
- 17、如果中东地区动荡会使石油减产，根据价格理论...
- 18、如果中东地区动荡会使石油减产，根据价格理论...
- 19、如何理解边际产量递减规律？
- 20、什么是公共物品？公共物品为什么会引起市场失...
- 21、什么是汇率？为什么一些国家在国内经济衰退时...
- 22、石油是重要的工业原料，如果中东政治动荡引起...
- 23、试说明市场失灵产生的原因及解决的办法。...
- 24、现在许多企业都要成为“学习型企业”，这使市...
- 25、用 IS-LM 模型分析扩张性财政政策对经济的影...
- 26、用 IS - LM 模型说明自发总支出的变动对国内生...

285、在完全竞争市场上，企业对生产要素的需求取决于（）。-->生产要素的边际收益

286、在完全竞争市场上，整个行业的需求曲线是一条（向右下方倾斜的线），而市场对个别厂商产品的需求曲线是一条（由既定市场价格出发的线）。

287、在物品市场上利率与国民收入成（反方向）变动，而在货币市场上利率与国民收入成（同方向）变动。

288、在信息不对称情况下，拥有信息少的一方作出不利于另一方的选择，这种情况被称 33、为（） -->逆向选择

289、在需求不变的情况下，供给的减少引起均衡价格（），均衡数量（） -->上升减少

290、在需求的价格弹性小于 1 的条件下，卖者适当（提高）价格能增加总收益。

291、在影响总需求的财产效应、利率效应和汇率效应中，（利率）效应最重要。

292、在正常情况下，会计利润（大于）经济利润。

293、债券价格与债券收益的大小成（）比，与利率的高低成（）比。-->正反

294、粘性工资理论是指短期中（名义工资）的调整慢于劳动供求关系的变化。

295、正常利润是（企业家才能）的价格，它包括在（成本）之中。

296、正常利润是一种特殊的工资，其特殊性就在于（）。-->其数额远远高于一般劳动所得到的工资

297、政府实行赤字财政政策是通过发行（债券）来进行的。

298、支持价格一定（高于）均衡价格，限制价格一定（低于）均衡价格。

299、中央银行规定的银行所持有的最低准备金与存款的比率称为（法定准备率）。

300、中央银行控制货币供给量的工具主要是：（） 、贴现政策以及准备率政策。-->公开市场活动

301、中央银行运用（货币政策）调节经济。

302、周期性失业又称为（需求不足的失业），周期性失业是由于（总需求不足）而引起的短期失业。

303、自发总支出增加时，IS 曲线向（）移动；自发总支出减少时，IS 曲线向（）移动。-->右上 方左下方

304、自然失业率是衡量自然失业状况的指数，可以用（自然失业人数）与（劳动力总数）之比来表示。

27、用供求定理和需求弹性理论说明石油输出国组...

28、用替代效应和收入效应解释劳动的供给曲线为...

29、用图形分析在完全竞争市场上，一个企业的短期...

30、用图形说明，20 世纪 70 年代石油价格上升引起了...

31、用图形说明无差异曲线的特征。...

32、用消费者行为理论解释需求定理。...

33、用需求弹性理论解释“薄利多销”和“谷贱伤...

34、用总需求—总供给模型说明，在开放经济中，总需求...

35、用总需求—总供给模型说明我国政府提出的增加内...

36、用总需求—总供给模型说明技术进步的重要性。...

37、运用总需求—总供给模型分析，当一个经济已经...

38、运用总需求—总供给模型说明一国居民购买住...

39、在经济衰退时应该采取什么财政政策？...

40、在开放经济中，增加出口对一国经济有什么影响...

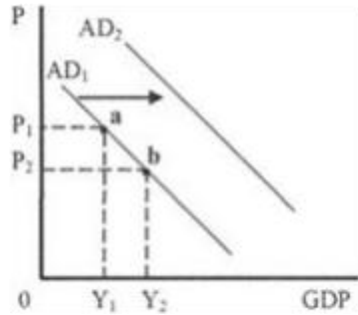
41、在目前的家电市场上，为了占有更大的市场份额...

42、总产量、边际产量与平均产量之间的关系是什...

1、从投资的角度说明总需求曲线向右下方倾斜的原因。用图形说明物价水平的变动如何引起总需求的变动，政府支出的增加如何引起总需求水平的变动？

答：(1)从投资的角度看，总需求与物价水平反方向变动，即总需求曲线向右下方倾斜，这点可以用利率效应来解释。利率效应就是物价水平通过对利率的影响而影响投资。物价水平→实际货币量→利率→投资→总需求。

(2)物价水平变动对总需求的影响可以用同一条总需求曲线上的上下移动来表示，即物价上升(从  $P_2$  上升到  $P_1$ )，引起沿同一条需求曲线向左上方移动(从  $b$  点到  $a$  点)，总需求减少(从  $Y_2$  减少到  $Y_1$ )；物价下降(从  $P_1$  下降到  $P_2$ )，引起沿同一条总需求曲线向右下方移动(从  $a$  点到  $b$  点)，总需求增加(从  $Y_1$  增加到  $Y_2$ )。(5 分，其中作图 2 分)



(3) 当物价不变而其他影响总需求的因素变动时，总需求曲线平行移动。政府支出增加引起总需求的增加表现为总需求曲线向右移动，即从  $AD_1$  移动到  $AD_2$ 。(5分，其中作图 2分)

**2、各国在不同时期都采用过赤字财政政策，分析赤字财政政策的筹资方式及对经济的影响。**

答：(1) 在经济萧条时期，财政政策是增加政府支出，减少政府税收，这样就必然出现财政赤字，即政府收入小于支出。

(2) 赤字财政用货币筹资与债务筹资来筹资。

货币筹资就是把债券卖给中央银行，这种方法的好处是政府不必还本付息，从而减轻了政府的债务负担。但缺点是会增加货币供给量引起通货膨胀。

债务筹资就是把债券卖给中央银行以外的其他人。这种筹资方法相当于向公众借钱，不会增加货币量，也不会直接引发通货膨胀，但政府必须还本付息，这就背上了沉重的债务负担。

(3) 赤字财政在短期内可以刺激经济，尤其是可以较快使经济走出衰退。

(4) 赤字财政会加重财政负担，并引起通货膨胀，减少储蓄。

**3、根据国内生产总值的定义解释，下列哪些项目应该计人 2002 年的国内生产总值，哪些项目不应计入，并简单说明原因。**

答：(1) 外资企业在国内生产的汽车，价值 10 亿元；

(2) 2001 年生产，在 2002 年才卖出去的机器，价值 15 亿元；

(3) 2002 年以 100 万元拍卖成功张大千画一幅，佣金 5 万元。

答：(1) 应计入；GDP 指在本国领土上所生产的产品，无论是哪国人或企业所生产的。

(2) 不应计入；GDP 是指一年内生产出来的产品的总值，在计算时不应包括以前所生产的产品价值。

(3) 画的价值 100 万元不应计入，它是过去画的(2分)；佣金的价值应计入，它是当年提供劳务的收入。

**4、根据经济增长理论，应该如何实现我国经济的长期稳定增长。**

答：(1) 制度：是一种涉及社会、政治和经济行为的行为规则，决定人们的经济与其他行为，也决定一国的经济增长。制度的建立与完善是经济增长的前提。建立适应社会主义经济的制度。(5分)

(2) 资源：是经济增长的源泉，包括劳动力和资本。增加人力资本投资、提高人口素质。(5分)

(3) 技术：技术进步在经济增长中的作用，体现在生产率的提高上，即同样的生产要素投入量能提供更多的产品。技术进步主要包括资源配置的改善，规模经济和知识的进展。技术进步对我国经济增长的意义。(5分)

**5、根据经济增长理论，应该如何实现我国经济的长期稳定增长。**

答：(1) 制度：是一种涉及社会、政治和经济行为的行为规则，决定人们的经济与其他行为，也决定一国的经济增长。制度的建立与完善是经济增长的前提。建立适应社会主义经济的制度；

(2) 资源：是经济增长的源泉，包括劳动力和资本。增加人力资本投资、提高人口素质。

(3) 技术：技术进步在经济增长中的作用，体现在生产率的提高上，即同样的生产要素投入量能提供更多的产品。技术进步主要包括资源配置的改善，规模经济和知识的进展。技术进步对我国经济增长的意义。

**6、根据下列给出的数字，用支出法计算 GDP。**

- (1) 出口的增加提高了对国内产品的需求，使总需求增加，国内生产总值增加。(3分)
- (2) 国内总需求增加对国内生产总值增加的影响取决于乘数的大小。开放经济中的乘数要考虑到进口增加在国内生产总值增加中所占的比例，即边际进口倾向。(3分)
- (3) 国内生产总值的增加会使进口增加，但由于这时国内生产总值的增加是由出口增加引起的，一般来说，出口增加所引起的国内生产总值增加不会全用于进口(即边际进口倾向是小于一的)，所以，贸易收支状况改善(贸易盈余增加或赤字减少)。(4分)
- (4) 在加入 WTO 后，我们应该如何增加出口(学生只要答出一条言之有理的建议就可以)。(5分)

**7、根据总需求分析说明增加国内总需求对我国经济发展的意义。**

- (1) 总需求指一个经济中对物品与劳务的需求总量，包括消费需求、投资需求、政府需求与国外的需求。(4分)
- (2) 根据总需求分析原理，GDP 是由总需求决定的，它与总需求同方向变动。(4分)
- (3) 如何增加消费。(3分，学生只要答出一条言之有理的建议就可以。)
- (4) 如何增加投资。(2分，同上。)
- (5) 如何增加出口。(2分，同上。)

**8、国防、钢铁厂的污染、特大企业的存在都会引起市场失灵，它们各自引起市场失灵的原因是什么?应该如何解决?**

答：(1) 国防之所以会引起市场失灵，是因为它是一种公共物品。(2分)

(2) 钢铁厂的污染之所以会引起市场失灵，是由于外部性的存在。(2分)

(3) 特大企业会引起市场失灵，是由于垄断的存在。(2分)

(4) 用政府干预来解决这些问题。(9分)

国防——由政府提供；

污染——可以使用立法或行政手段，或者采用经济或市场手段；

垄断——政府可以用价格管制、反垄断法或国有化来消除垄断。

**9、划分市场结构根据什么标准? 市场结构有哪几种类型?**

答：(1) 市场结构是指市场的垄断与竞争程度，各个市场的竞争与垄断程度不同形成了不同的市场结构，根据三个标准来划分市场结构。

第一，行业的市场集中度。即大企业在市场上的控制程度，用市场占有率来表示。

第二，行业的进入限制，它来自自然原因和立法原因。

第三，产品差别。是同一种产品在质量、牌号、形式、包装等方面的差别。

(2) 根据行业的市场集中度、行业的进入限制和产品差别，可以把市场结构分为四种类型：

第一、完全竞争。它是一种竞争不受任何阻碍和干扰的市场结构。

第二、垄断竞争。它是既有垄断又有竞争，垄断与竞争相结合的市场。

第三、寡头。它是只有几家大企业的市场。

第四、垄断。它是只有一家企业控制整个市场的供给。

**10、简要说明决定经济增长的因素。**

答：经济增长是 GDP 或人均 GDP 的增加，决定经济增长的因素主要有：(1) 制度。它是一种涉及社会、政治和经济行为的行为规则。决定人们的经济与其他行为，也决定一国的经济增长。制度的建立与完善是经济增长的前提。(2) 资源。经济增长是产量的增加，产量是用各种生产要素生产出来的。各种生产要素是资源，因此，增长的源泉是资源的增加。资源包括劳动与资本。劳动指劳动力的增加，劳动力的增加又可以分为劳动力数量的增加与劳动力质量的提高。资本分为物质资本与人力资本。物质资本又称有形资本，是指设备、厂房、存货等的存量。人力资本又称无形资本，是指体现在劳动者身上的投资，如劳动者的文化技术水平，健康状况等。经济增长中必然有资本的增加。(3) 技术。技术进步在经济增长中的作用，体现在生产率的提高上，即同样的生产要素投入量能提供更多的产品。技术进步在经济增长中起了最重要的作用。技术进步主要包括资源配置的改善，规模经济和知识的进展。

**11、结合图形，用供求定理和需求弹性理论说明石油输出国组织为什么经常限制石油产量?**

答：(1) 供求定理的主要内容是：

第一，需求的增加引起均衡价格上升，需求的减少引起均衡价格下降。

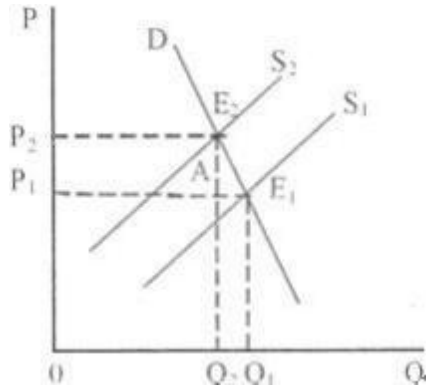
第二，需求的增加引起均衡数量增加，需求的减少引起均衡数量减少。

第三，供给的增加引起均衡价格下降，供给的减少引起均衡价格上升。

第四，供给的增加引起均衡数量增加，供给的减少引起均衡数量减少。

(2) 石油输出国组织经常限制石油产量，是因为在石油的需求没有变化的情况下，石油的价格将上升。如图，限制产量使石油的供给曲线由  $S_1$  向左平移至  $S_2$ ，引起价格从  $P_1$  上升至  $P_2$ 。(5 分，其中作图 3 分)

(3) 由于石油是各国的重要能源，其需求弹性较小，从而其需求量下降的幅度会小于价格上升的幅度，使得价格上升所造成的销售收入的增加量必定大于需求量减少所带来的销售收入的减少量，石油输出国组织的总收益将增加。如图，价格上升后，需求量由  $Q_1$  减少为  $Q_2$ ，但  $Q_2AE_1Q_1$  小于  $P_1AE_2P_2$ ，即总收益增加。(7 分，其中作图 3 分)



12、每年春节铁路运输都紧张，票贩子活动猖獗。

有人认为，应该放开火车票价完全按供求关系定价。有人认为，应该严格限制价格并打击票贩子。你支持那种观点？如果你认为两种作法都不足取，应该采取什么办法？

答：严打票贩，理由如下：

- (1)、票贩子严重扰乱市场秩序，破坏经济正常运作，不利社会安定。应予严打。
- (2)、如按供求关系完全放开价格，对春节出行者，特别是打工族不利，提高其利益。
- (3)、①春运期间，铁路均加开班次，票价亦已上浮一定比例，基本体现供求状况。

②而表面上看，供求十分紧张。重要原因是票贩倒卖，控制了一部分车票，导致铁路运输显得十分紧张。

13、目前，保持我国经济增长的关键是增加国内需求，用消费函数理论说明如何才能增加消费需求。答：

(1) 消费函数是消费与收入之间的依存关系。在其他条件不变的情况下，消费随收入的变动而同方向变动，消费函数用公式表示为： $C=f(Y)$ 。

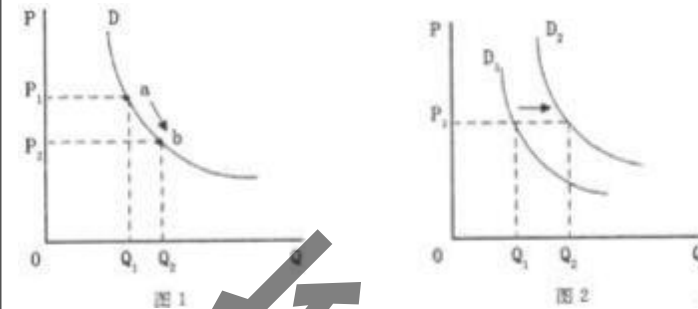
(2) 消费函数说明增加收入是增加消费的关键。

(3) 说明增加农民收入的重要意义。

(4) 通过改革，提高边际消费倾向。

14、汽车价格下降、汽车保险价格下调，以及收入增加都会使消费者对汽车的购买量增加。从经济学的角度，用图形说明这三种因素引起的汽车购买量增加有什么不同。

答：(1) 汽车价格下降引起需求量增加，这种需求量增加表现为同一条需求曲线上由 a 点移动到 b 点，见图 1。(4 分)



(2) 汽车保险价格下调以及收入增加引起需求增加，这种需求增加表现为需求曲线的移动，即从  $D_1$  移动到  $D_2$ ，见图 2。

(3) 本题作图各占 3 分，共 6 分。

15、如果考虑到提高生产者的收入，那么对农产品和数码摄像机等高档消费品应采取提价还是降价的办法？运用所学的弹性理论说明其原因。

答：(1) 农产品应采取提价。因为农产品是必需品，需求缺乏弹性。所谓“谷贱伤农”，根据弹性理论，农产品的价格和总收益是同方向变动，价格提升，总收益也随之增加，自然生产者的收入也提高了。

(2) 数码消费品应降价。因为数码摄像机等高档消费品，需求富有弹性，可“薄利多销”。如果该物品富有弹性，那么该商品的价格与总收益成反方向变动，也就是价格下降，总收益增加就要做到“薄利多销”自然生产者的收入也提高了。

16、如果你是一家服装企业的经理，你在这个垄断竞争市场上如何创造自己的产品差别？

答：(1) 产品差别是同一种产品在质量、牌号、形式、包装等方面的差别。

(2) 实际差别的创造。企业创造产品差别就要使自己的产品在质量、外形、包装等方面不同于同类其他产品。这些不同差别的产品可以满足消费者的不同偏好，在一部分消费者中形成垄断地位。

(3) 广告与营销手段的应用。广告的作用是要使消费者认识那些不易辨认的产品差别，甚至使消费者承认本无差别的产品有差别。

(4) 创名牌。在产品差别中，品牌是一种重要的产品差别，它既有实际差别，又有消费者对它的认知。但名牌还要靠广告宣传，让消费者认知。在垄断竞争行业中，企业创造名牌是十分重要的。

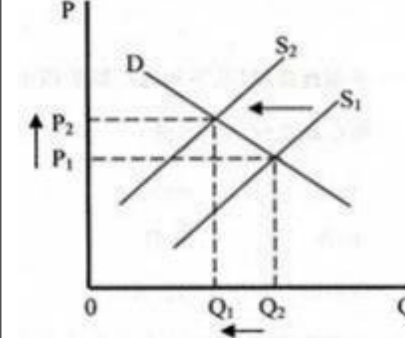
17、如果中东地区动荡会使石油减产，根据价格理论分析这种变化对汽车市场的影响。

答：(1) 石油减产，石油的供给曲线向左移动，由  $S_1$  移动到  $S_2$ 。

(2) 石油供给曲线向左移动会使汽油的价格上升(从  $P_1$  上升到  $P_2$ )，数量减少(由  $Q_2$  减少为  $Q_1$ )。

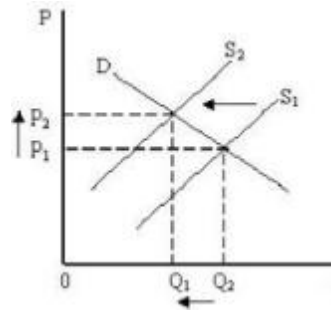
(3) 汽油与汽车是互补品，汽油价格上升会引起汽车的需求减少。

(4) 作图占 3 分。



18、如果中东地区动荡会使石油减产，根据价格理论分析这种变化对汽车市场的影响。

- 答：(1)石油减产，石油的供给曲线向左移动由  $S_1$  移动到  $S_2$ 。(4分)  
 (2)石油供给曲线向左移动会使汽油的价格上升(从  $P_1$  上升到  $P_2$ )，数量减少(由  $Q_2$  减少为  $Q_1$ )。(4分)  
 (3)汽油与汽车是互补品，汽油价格上升会引起汽车的需求减少。(4分)  
 (4)作图占3分。



19、如何理解边际产量递减规律?

答：(1)边际产量递减规律的基本内容是：在技术水平不变的情况下，当把一种可变的生产要素投入到一种或几种不变的生产要素中时，最初这种生产要素的增加会使产量增加，但当它的增加超过一定限度时，增加的产量将要递减，最终还会使产量绝对减少。

(2)这一规律发生作用的前提是技术水平不变。技术水平不变是指生产中所使用的技术没有发生重大变革。

(3)边际产量递减规律研究的是把不断增加的一种可变生产要素，增加到其他不变的生产要素上时对产量所发生的影响。

(4)在其他生产要素不变时，一种生产要素增加所引起的产量或收益的变动可以分为产量递增、边际产量递减和产量绝对减少三个阶段。

20、什么是公共物品?公共物品为什么会引起市场失灵?

答：(1)公共物品是集体消费的物品，它的特征是消费的非排他性和非竞争性。

(2)公共物品的非排他性和非竞争性决定了人们不用购买仍然可以消费，这种不用购买就可以消费的行为称为搭便车。公共物品可以搭便车，消费者要消费不必花钱购买，公共物品就没有交易，没有市场价格，生产者不愿意生产。由于公共物品没有交易和相应的交易价格，如果仅仅依靠市场调节，就没人生产或生产远远不足。公共物品的供小于求是资源配置失误，这种失误是由于仅仅依靠市场机制引起的，这就是市场失灵。

(3)市场失灵指在有些情况下仅仅依靠价格调节并不能实现资源配置最优。

21、什么是汇率?为什么一些国家在国内经济衰且时实行本国货币贬值(汇率下降)?

答：(1)汇率又称“外汇行市”或“汇价”是一国货币单位同他国货币单位的兑换比率。

(2)国货币贬值(汇率下降)时，如果外国产品价格不壟，用本国货币表示的外国产品的价格就上升，从而进口城少，但用外国货币表示的本国产品的价格  $F$  降，从而出  $U$  增胆固(白什)。

(3)汇率下降引起一同出口增加，进口减少，净出口增加。净出口是且需求的部分，净出门增加，且需求增加。

22、石油是重要的工业原料，如果中东政治动荡引起石油产量减少，用总需求—总供给模型说明它会给世界经济带来什么影响。

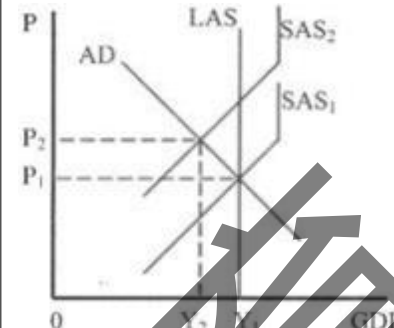
答：(1)总需求—总供给模型是要说明均衡的国内生产总值与物价水平的决定的。总需求曲线与短期总供给曲线相交时就决定了均衡的国内生产总值和均衡的物价水平。这时总需求与总供给相等，实现了宏观经济的均衡。

(2)石油产量减少，价格上升，从而生产其他相关产品的成本增加，这会影影响短期总供给。

(3)短期总供给曲线从  $SAS_1$  向上移动至  $SAS_2$ 。

(4)当  $AD$  和  $LAS$  不变时， $SAS$  的向上移动引起  $GDP$  减少(从  $Y_1$  减少到  $Y_2$ )，物价水平上升(从  $P_1$  上升到  $P_2$ )。

(5)作图占3分。



23、试说明市场失灵产生的原因及解决的办法。

答：1.市场失灵指在有些情况下仅仅依靠价格调节并不能实现资源配置最优。

2.市场失灵产生的原因有公共物品、外部性与垄断。

3.解决有公共物品的方法：

1) 准公共物品可以使之变为私人物品由市场提供；2) 纯公共物品由政府提供公共物品。

(2) 解决外部性的方法：1) 在产权明晰的情况下，可以通过市场机制来解决外部性问题。

2) 在产权不明晰情况下，可以通过政府干预，政府解决外部性问题方法有：

A 采用立法或行政手段，

B 经济或市场手段：征税和补贴，即对产生负外部性的企业征税，产生正外部性的企业进行补贴；

C 可交易的排污证制度。

(3) 解决垄断的方法：

1) 价格管制，就是由政府控制垄断者产品的价格，其原则有三种：一是边际成本法，二是平均定价，三是确定一具合理的资本回报率

2) 实施反托拉斯法，即反对垄断的法律；

3) 国有化，即对垄断性的企业实行国有，由政府经营。

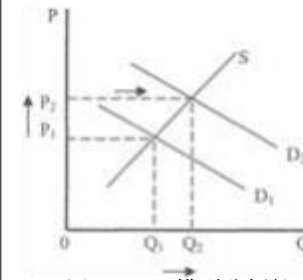
24、现在许多企业都要成为“学习型企业”，这使市场上财经管理类图书走俏，分析这种变化对财经管理类图书市场的影响。

答：(1)这种变化引起对这类图书的需求变化，但并不直接影响供给。因此引起需求曲线变动，而供给曲线不变。

(2)这种变化引起需求增加，需求曲线向右方平行移动。

(3)这种变化引起均衡价格(成交价)上升，均衡数量(成交量)增加，这个市场繁荣。

(4)作图占3分。

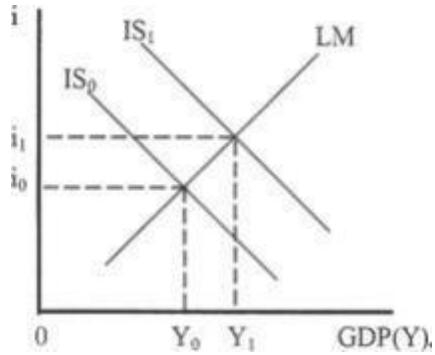


25、用 IS-LM 模型分析扩张性财政政策对经济的影响。

答：(1)IS-LM 模型是说明物品市场与货币市场同时均衡时利率与国内生产总值决定的模型。

(2)扩张性财政政策就是增加政府支出和减少税收，使自发总支出增加。

- (3) 当自发总支出增加时，IS 曲线向右上方移动，即从  $IS_0$  移动到  $IS_1$ 。  
 (4) IS 曲线向右上方移动，引起 GDP 增加（从  $Y_0$  增加到  $Y_1$ ），利率上升（从  $i_0$  上升到  $i_1$ ）。  
 (5) 作图占 3 分。

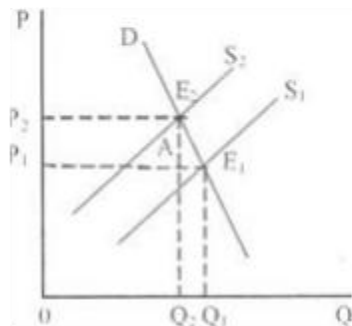


26、用 IS—LM 模型说明自发总支出的变动对国内生产总值和利率的影响。

答：(1) IS—LM 模型是说明物品市场与货币市场同时均衡时利率与国内生产总值决定的模型。  
 (2) 投资的变动会引起自发总支出变动，自发总支出的变动则引起 IS 曲线的平行移动，从而就会使国内生产总值与利率变动。这就是，在 LM 曲线不变的情况下，自发总支出增加，IS 曲线向右上方平行移动（从  $IS_0$  移动到  $IS_1$ ），从而国内生产总值增加（从  $Y_0$  增加到  $Y_1$ ），利率上升（从  $i_0$  上升为  $i_1$ ）；反之，自发总支出减少，IS 曲线向左下方平行移动（从  $IS_0$  移动到  $IS_2$ ），从而国内生产总值减少（从  $Y_0$  减少到  $Y_2$ ），利率下降（从  $i_0$  下降为  $i_2$ ）。

27、用供求定理和需求弹性理论说明石油输出国组织为什么经常限制石油产量？

答：(1) 供求定理的主要内容是：  
 第一，需求的增加引起均衡价格上升，需求的减少引起均衡价格下降。  
 第二，需求的增加引起均衡数量增加，需求的减少引起均衡数量减少。  
 第三，供给的增加引起均衡价格下降，供给的减少引起均衡价格上升。  
 第四，供给的增加引起均衡数量增加，供给的减少引起均衡数量减少。  
 (2) 石油输出国组织经常限制石油产量，是因为在石油的需求没有变化的情况下，石油的价格将上升。如图，限制产量使石油的供给曲线由  $S_1$  向左平移至  $S_2$ ，引起价格从  $P_1$  上升至  $P_2$ 。(5 分，其中作图 3 分)  
 (3) 由于石油是各国的重要能源，其需求弹性较小，从而其需求量下降的幅度会小于价格上升的幅度，使得价格上升所造成的销售收入的增加量必定大于需求量减少所带来的销售收入的减少量，石油输出国组织的总收益将增加。如图，价格上升后，需求量由  $Q_1$  减少为  $Q_2$ ，但  $Q_2AE_1Q_1$  小于  $P_1AE_2P_2$ ，即总收益增加。(7 分，其中作图 3 分)

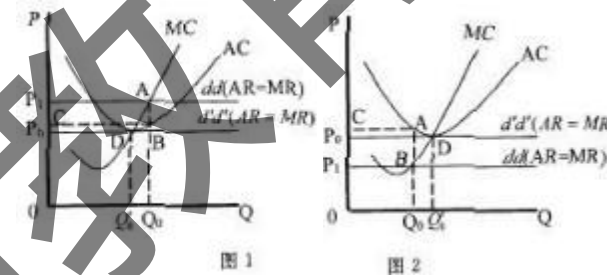


28、用替代效应和收入效应解释劳动的供给曲线为什么是向后弯曲的？

答：(1) 向后弯曲的劳动供给曲线指定工资上升，劳动供给增加，当工资上升到一定程度之后，随工资上升，劳动供给减少的劳动供给曲线。  
 (2) 劳动供给取决于工资变动所引起的替代效应和收入效应。随着工资增加，由于替代效应的作用，家庭用工作代替闲暇，从而劳动供给增加，同时，随着工资增加，由于收入效应的作用，家庭需要更多闲暇，从而劳动供给减少，当替代效应大于收入效应时，劳动供给随工资增加而增加；当收入效应大于替代效应时，劳动供给随工资增加而减少。  
 (3) 一般规律是，当工资较低时，替代效应大于收入效应；当工资达到某个较高水平时，收入效应大于替代效应。因此，劳动供给曲线是一条向后弯曲的供给曲线。

29、用图形分析在完全竞争市场上，一个企业的短期与长期均衡。

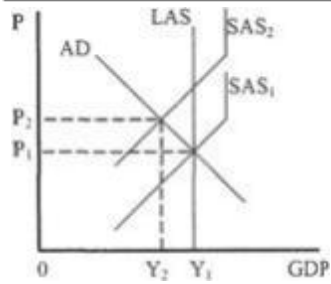
(1) 假设在短期内整个行业供给小于需求。此时价格高（图 1 中的  $P_1$ ），企业有超额利润（图 1 中的  $ABCP_1$ ）；(4 分)  
 (2) 在长期中，各个企业都可以根据市场价格来充分调整产量，也可以自由进入或退出该行业。当供给小于需求，价格高时，企业会扩大生产或其他企业涌入该行业，从而整个行业供给增加，价格水平下降到  $P_0$ ，需求曲线移动为  $d'd'$ ，这时既无超额利润又无亏损（总收益与总成本均为  $OQ_0DP_0$ ），实现了长期均衡。(6 分)  
 (3) 作图占 5 分。（可以分别画出短期均衡与长期均衡的图，也可以将两个图合在一起）



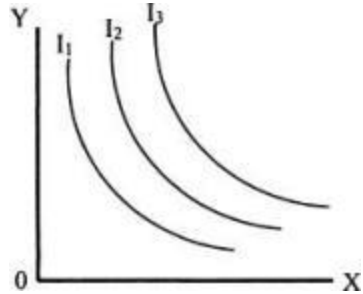
说明：此题学生只需分析一种情况即可。也可以假设在短期内整个行业供给大于需求。此时价格低（图 2 中的  $P_1$ ），企业有亏损（图 2 中的  $ABCP_1$ ）；在长期中，当供给大于需求，价格低时，企业会减少生产或退出该行业，从而整个行业供给减少，价格水平上升到  $P_0$ ，需求曲线移动为  $d'd'$ ，这时既无超额利润又无亏损（总收益与总成本均为  $OQ_0DP_0$ ），实现了长期均衡。

30、用图形说明，20 世纪 70 年代石油价格上升引起了哪一种类型的通货膨胀。

答：(1) 石油是成本中重要的一部分，石油价格上升使成本增加，短期总供给曲线从  $SAS_1$  向上移动至  $SAS_2$ 。  
 (2) 石油价格上升只影响短期总供给，并不影响总需求和长期总供给。短期总供给曲线向上移动决定了价格水平为  $P_2$ ，价格水平从  $P_1$  上升到  $P_2$  是由于成本的增加所引起的。这种由于成本增加所引起的通货膨胀称为供给推动的通货膨胀。  
 (3) 当 AD 和 LAS 不变时，SAS 的向上移动引起通货膨胀和经济衰退(GDP 减少由  $Y_1$  减少到  $Y_2$ )。  
 (4) 作图占 3 分。



31、用图形说明无差异曲线的特征。



- (1) 元差异曲线是用来表示两种商品(X、Y)的不同数量的组合给消费者所带来的效用完全相同的一条曲线，如图中的  $I_1$  或  $I_2$  或  $I_3$ 。
- (2) 无差异曲线具有四个重要特征:(10分)第一，无差异曲线是一条向右下方倾斜的曲线，其斜率为负值。第二，在同一个平面图上，可以有无数条元差异曲线。离原点越远的无差异曲线，所代表的效用越大;离原点越近的无差异曲线，所代表的效用越小。如图  $I_1, I_2, I_3$  是三条不同的无差异曲线，它们分别代表不同的效用，其顺序为:  $I_1 < I_2 < I_3$ 。第三，在同一平面图上，任意两条无差异曲线不能相交。第四，无差异曲线是一条凸向原点的线。
- (3) 作图占3分。

32、用消费者行为理论解释需求定理。

答: (1) 需求定理表明: 一种商品的需求量与价格之间成反方向变动。  
 (2) 消费者购买各种物品是为了实现效用最大化，或者也可以说是为了消费者剩余最大。当某种物品价格既定时，消费者从这种物品中所得到的效用越大，即消费者对这种物品评价越高，消费者剩余越大。当消费者从对某种物品的评价既定时，消费者支付的价格越低，消费者剩余越大。因此，消费者愿意支付的价格取决于他以这种价格所获得的物品能带来的效用大小。消费者为购买一定量某物品所愿意付出的货币价格取决于他从这一定量物品中所获得效用，效用大，愿付出的价格高; 效用小，愿付出的价格低。随着消费者购买的某物品的数量的增加，该物品给消费者所带来的边际效用是递减的，而货币的边际效用是不变的。这样，随着物品的增加，消费者所愿付出的价格也在下降。因此，需求量与价格必然成反方向变动。

33、用需求弹性理论解释“薄利多销”和“谷贱伤农”这两句话。

答: (1) “薄利多销”是指需求富有弹性的商品小幅度降价使需求量较大幅度增加，而引起的总收益的增加。需求富有弹性的商品，其价格与总收益成反方向变动。“薄利”就是降价，降价能“多销”，“多销”则会增加总收益。

(2) “谷贱伤农”是指粮食丰收了，价格下降，农民收入减少。需求缺乏弹性的商品，其价格与总收益成同方向变动。粮食是生活必需品，缺乏弹性，在粮价下跌时，需求增加的并不多，这样就会使总收益减少，农民受到损失。

34、用总需求—总供给模型说明，在开放经济中，总需求的变动对宏观经济有什么影响?

- 解: 1) 总需求的变动来自国内总需求的变动和出口的变动。  
 2) 国内总需求的增加会使总需求曲线向右上方移动，会使均衡的国内生产总值增加，同时也会使贸易收支状况恶化; 同理，国内总需求减少，会使国内生产总值减少，并使贸易收支状况改善。  
 3) 如果总需求的变动是由出口的变动引起的，宏观经济均衡的变动与国内总需求引起的变动有所不同。出口增加会使总需求增加，并使国内生产总值增加。国内生产总值增加会使进口增加，但由于国内生产总值的增加是有出口增加引起的。一般来说出口增加所引起的国内生产总值不会全用于出口，所以贸易收支状况改善。

35、用总需求决定原理分析我国政府提出的增加内需的意义。

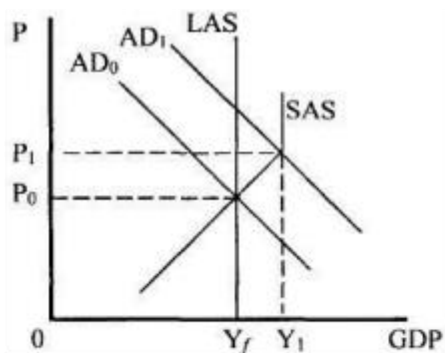
解: 用总需求决定原理分析我国政府提出的增加内需的意义。  
 10 总需求决定原理就是简单的凯恩斯主义模型所表明的，均衡的国内生产总值是由总支出决定的。  
 20 就内需而言，如果不考虑政府支出，重要的在于消费和投资。消费函数理论说明了消费的稳定性，这就说明要刺激消费是困难的。拉动内需的重点在于拉动投资。第一，要区分投资与消费的差别。应该把居民购买住房作为一种投资，并用刺激投资的方法拉动这项投资，只要政策得当，住房可以增加内需，带动经济。第二，在我国经济中，私人经济已成为国民经济的半壁江山。投资中的企业固定资产投资应该是以私人企业投资为主，因此要为私人企业投资创造更为宽松的环境。

36、用总需求—总供给模型说明技术进步的重要性。

答: (1) 总需求—总供给模型是要说明均衡的国内生产总值与物价水平的决定的。总需求曲线、短期总供给曲线与长期总供给曲线相交决定了均衡的国内生产总值与充分就业的国内生产总值相等 ( $Y_0 = Y_f$ )，经济处于充分就业均衡状态。(2) 技术进步会使一国经济潜力提高，这就体现为长期总供给曲线向右移动。随着长期总供给曲线的移动 (从  $LAS_0$  移动到  $LAS_1$ )，短期总供给曲线也向右移动 (从  $SAS_0$  移动到  $SAS_1$ )。在这一过程中技术进步引起投资增加、消费增加，总需求曲线移动也向右移动 (从  $AD_0$  移动到  $AD_1$ )。这三条曲线相交决定了均衡的国内生产总值与新的充分就业均衡，但水平大大提高了，而物价水平仍然水平不变 ( $P_0$ )。因此，经济潜力提高，长期总供给曲线向右移动，可以实现更多水平的充分就业均衡而不引起通货膨胀。这说明从长期来看，提高经济能力，提高经济潜力，使长期总供给曲线向右移动是至关重要的。

37、运用总需求—总供给模型分析，当一个经济已经实现了充分就业时，总需求增加会引起什么结果。

- 答: (1) 根据总需求—总供给模型的分析，当宏观经济实现了充分就业均衡时，总需求曲线、短期总供给曲线与长期总供给曲线相交于一点，均衡的 GDP 正好等于充分就业的 GDP。(3分)  
 (2) 总需求增加引起总需求曲线向右方移动，从  $AD_0$  移动到  $AD_1$  物价水平由  $P_0$  上升到  $P_1$ ，这样就由于总需求过度而引起了通货膨胀，这种通货膨胀被称为需求拉上的通货膨胀。(5分)  
 (3) 在经济实现了充分就业均衡时，总需求增加会引起物价水平上升，GDP 也会暂时增加(资源超充分利用)，但会受到资源与技术的限制。(4分)  
 (4) 作图占3分。



38、运用总需求—总供给模型说明一国居民购买住房的增加对宏观经济的影响。

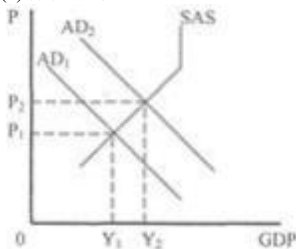
答：(1)总需求—总供给模型是要说明均衡的国内生产总值与物价水平的决定的。总需求曲线与短期总供给曲线相交时就决定了均衡的国内生产总值和均衡的物价水平。这时总需求与总供给相等，实现了宏观经济的均衡。

(2)购买住房为投资需求，它会影响总需求。

(3)投资增加会引起总需求增加，总需求曲线向右方移动，由  $AD_1$  移动到  $AD_2$ 。(4)

变动的结果是 GDP 增加(由  $Y_1$  增加为  $Y_2$ )，物价水平上升(由  $P_1$  上升为  $P_2$ )。

(5)作图 3 分。



39、在经济衰退时应该采取什么财政政策？

答：(1)财政政策是通过政府支出与税收来调节经济的政策，它的主要内容包括政府支出与税收。政府支出包括政府公共工程支出、政府购买，以及转移支付。政府税收主要是个人所得税、公司所得税和其他税收。

(2)在经济衰退时期，由于总需求小于总供给，经济中存在失业，政府就要通过扩张性的财政政策来刺激总需求，以实现充分就业。

(3)扩张性财政政策是通过政府增加支出和减少税收来刺激经济的政策。政府公共工程支出与购买的增加有利于刺激私人投资，转移支付的增加可以增加个人消费，这样就会刺激总需求。减少个人所得税(主要是降低税率)可以使个人可支配收入增加，从而消费增加；减少公司所得税可以使公司收入增加，从而投资增加，这样也会刺激总需求。

(4)扩张性财政政策可以通过乘数效应刺激经济。

40、在开放经济中，增加出口对一国经济有什么影响？我们应该如何增加出口？

答：(1)出口的增加提高了对国内产品的需求，使总需求增加，国内生产总值增加。

(2)国内总需求增加对国内生产总值增加的影响取决于乘数的大小。开放经济中的乘数要考虑到进口增加在国内生产总值增加中所占的比例，即边际进口倾向。

(3)国内生产总值的增加会使进口增加，但由于这时国内生产总值的增加是由出口增加引起的，一般来说，出口增加所引起的国内生产总值增加不会全用于进口(即边际进口倾向是小于一的)，所以，贸易收支状况改善(贸易盈余增加或赤字减少)。

(4)在加入 WTO 后，我们应该如何增加出口(学生只要答出一条言之有理的建议就可以)。

41、在目前的家电市场上，为了占有更大的市场份额，各个厂商不得不采取一些竞争策略，包括价格、广告、售后服务、产品外形设计等，其竞争是十分激烈的。因此，家电行业被认为是完全竞争行业。这种说法正确吗？

答：这种说法不正确。

因为完全竞争市场上的产品是同质的，不存在产品外型等这些产品差别；另外，完全竞争市场的厂商只是价格的接受者，无力改变产品价格，而且完全竞争市场的厂商的市场份额都很小，在一定的产品价格下，其生产的产品都能销售出去，所以也不需要通过广告、售后服务等渠道扩大市场份额。所以家电行业不是完全竞争行业。

而家电行业各个厂商不得不采取一些竞争策略，包括价格、广告、售后服务、产品外形设计等等，是产品差别引起的竞争，符合垄断竞争市场缺点，所以，家电行业不是垄断竞争行业。

42、总产量、边际产量与平均产量之间的关系是什么？如何根据这种关系确定一种要素的合理投入？

答：(1)总产量指一定量的某种生产要素所生产出来的全部产量，平均产量指平均每单位某种生产要素所生产出来的产量，边际产量指某种生产要素增加一单位所增加的产量。(3 分)

(2)总产量与边际产量的关系。当边际产量为零时，总产量达到最大，以后，当边际产量为负数时，总产量就会绝对减少。(4 分)

(3)平均产量与边际产量的关系。边际产量大于平均产量时平均产量是递增的，边际产量小于平均产量时平均产量是递减的，边际产量等于平均产量时平均产量达到最大。(4 分)

(4)根据总产量、平均产量与边际产量的关系，一种生产要素的合理投入在使平均产量最大和总产量最大之间。(4 分)

计算题(87)

- 1、1950年教授的平均工资为300元，2000年教授的工资...
- 2、20世纪70年代汽油价格上升了200%，豪华汽车(耗油大)的需求量减少了50%，这两者之间的需求交叉弹性是多少？它们之间是什么关系？
- 3、20世纪70年代汽油价格上升了200%，豪华汽车(耗油大)的需求量减少了50%，这两者之间的需求交叉弹性是多少？它们之间是什么关系？
- 4、M个国家共有1亿人，16岁以下儿童2000万人，65岁以上人口占15%。该国的人均GDP为1000美元，人均消费为600美元。该国的人均储蓄为400美元。该国的人均投资为400美元。该国的人均消费与人均GDP之比是多少？
- 5、出租车与私人汽车之间的需求交叉弹性为0.2，...
- 6、出租车与私人汽车之间的需求交叉弹性为0.2，...
- 7、当人们的平均收入增加20%时，某种商品的需求量...
- 8、当自发总支出增加80亿元时，国内生产总值增加...
- 9、根据短期总成本、短期固定成本、短期可变成...
- 10、根据如下数据资料，用支出法计算国内生产总值...
- 11、根据如下资料，按支出法计算国内生产总值。...
- 12、根据下表计算
- 13、根据下列给出的数字，用支出法计算GDP。...
- 14、根据以下数据资料，分别用支出法与收入法计算...
- 15、根据总效用与边际效用的定义填写下表中的空...
- 16、计算并填写表中的空格。
- 17、计算并填写下表中的空格
- 18、计算下列每种情况时的货币乘数：...
- 19、假定1997年的物价指数为128，1998年的物价指...
- 20、假定：目前的均衡国民收入为5500亿美元，如果政...
- 21、假定对劳动的市场需求曲线为 $DL = -10W + 150$ ，劳...
- 22、假定某厂商只有一种可变要素劳动L，产出一种...
- 23、假定某一市场的年销售额为450亿元，其中销售...
- 24、假定某种债券每年的收益为100元，在债券价格...
- 25、假定汽油的需求价格弹性系数为0.15，现价格为...
- 26、假设：投资增加80亿元，边际储蓄倾向为0.2。求...
- 27、假设柯布一道格拉斯生产函数 $\alpha = 0.5, \beta = 0.5$ ，劳...
- 28、假设某银行吸收存款100万元。按规定要留准备...
- 29、假设消费者张某对X和Y两种商品的效用函数为...
- 30、假设一个经济中总收入为2000亿元，储蓄为400...
- 31、假设一国现有纸币1200亿元，铸币10亿元，存款货...
- 32、假设在一个简单的经济中，边际消费倾向为0.8...
- 33、某个国家共有1亿人，16岁以下儿童2000万人，65...
- 34、某公司生产汽车，每辆汽车的平均成本为5万元，...
- 35、某国的人口为2500万人，就业人数为1000万人，失...
- 36、某国流通的货币为4000亿美元，银行的存款准备...
- 37、某国人口为2500万人，就业人数为1000万人，失业...
- 38、某国总需求增加100亿元，其边际消费倾向为0.6...
- 39、某人购买某种股票共投资280万元，获得15%红利...
- 40、某人拥有一个企业，假设该企业每年收益为100...
- 41、某人原为某机关一处长，每年工资2万元，各种福...
- 42、某消费者收入为120元，用于购买X和Y两种商品，X...
- 43、某种化妆品的需求弹性系数为3，如果其价格下...
- 44、某种商品的价格上升10%，供给量增加了25%，这种...
- 45、某种商品的需求弹性系数为1.5，当它降价10%时...
- 46、某种商品的需求弹性系数为1.5，当它降价8%时，...
- 47、某种商品原来的价格为每公斤1.20元，销售量为...
- 48、某种商品在价格由10元下降为6元时，需求量由2...
- 49、如果某消费者有100元，X商品的价格为10元，Y商...
- 50、如果暑假你有两份工作可以选择，一份是当家教...

- 51、如果现金一存款率是0.38，法定准备率是0.18，货...
- 52、如果现金一存款率为0.38，准备率为0.18，货币乘...
- 53、如果要使一国的经济增长率从6%提高到8%，在资本...
- 54、如果一种商品价格上升10%，另一种商品需求量...
- 55、如果一种商品价格上升10%，另一种商品需求量...
- 56、如果银行最初吸收的存款为100万元，准备率为0...
- 57、设实际储蓄率为0.4，实际资本—产量比率为3，合...
- 58、设有如下简单经济模型： $Y = C + I + G, C = 80 + 0.75Y_d, Y_d \dots$
- 59、设有下列经济模型： $Y = C + I + G, I = 20 + 0.15Y, C = 40 + 0 \dots$
- 60、设债券的收益为20元，利率为5%，计算此时的债券...
- 61、设资本量为100，资本增量为20，劳动量为150，劳动...
- 62、社会原收入水平为1000亿元，消费为800亿元，当...
- 63、社会原收入水平为1000亿元，消费为800亿元，当...
- 64、填写下表中的空格。
- 65、完全竞争企业的长期成本函数 $LTC = Q^3 - 6Q^2 + \dots$
- 66、下面是某企业的产量、边际成本、边际收益情...
- 67、下面是某企业的产量、边际成本、边际收益情...
- 68、下面是一个经济中的有关资料，根据这些资料用...
- 69、一个国家边际消费倾向为0.6，边际进口倾向为0...
- 70、一个经济中按货币计算的财产为1万亿元，现在...
- 71、一个经济中的消费需求为8000亿元，投资需求为...
- 72、已知：边际消费倾向为0.8，边际税收倾向为0.15，...
- 73、已知：某国流通中的现金为5000亿美元，货币乘数...
- 74、已知：折旧380亿元、个人所得税580亿元、公司...
- 75、已知：中行规定法定存款准备率为8%，原始存款为...
- 76、已知某国的投资函数为 $I = 300 - 100r$ ，储蓄函数为...
- 77、已知某商品的需求函数为 $2Q + P = 6$ ，求 $P = 2$ 时的需...
- 78、已知某种商品的需求函数为 $D = 40 - 1/3P$ ，供给函...
- 79、已知某种商品的需求函数为 $D = 350 - 3P$ ，供给函数为...
- 80、已知生产函数 $Q = LK$ ，当 $Q = 10$ 时， $PL = 4, PK = 1$ 求：(1)厂...
- 81、已知消费函数为 $C = 200 + 0.5Y$ （或储蓄函数），投资函...
- 82、已知消费函数为 $C = 200 + 0.8Y$ ，投资为自主投资， $I = \dots$
- 83、在简单的国民经济循环中， $C = 60 + 0.8Y, Y = 800$ 亿...
- 84、在一个经济社会中，消费需求为8000亿元，投资需...
- 85、在一个行业中，最大的企业市场占有率为15%，第...
- 86、中央银行想使流通中的货币量增加1200万元，如...
- 87、中央银行想使流通中的货币量增加1200万元，如...

1、1950年教授的平均工资为300元，2000年教授的平均工资为4000元。以1950年的物价指数为100，2000年的物价指数为2100，教授的实际平均工资增加了还是减少了？

解：1950年的教授平均工资折算成2000年的实际平均工资

$$= 1950 \text{ 年的名义工资} \times \frac{2000 \text{ 年物价指数}}{1950 \text{ 年物价指数}} = 300 \times \frac{2100}{100} = 6300 \text{ 元}$$

从计算结果看，教授的实际平均工资是减少了。

2、20世纪70年代汽油价格上升了200%，豪华汽车(耗油大)的需求量减少了50%，这两者之间的需求交叉弹性是多少？它们之间是什么关系？

32. (1) 根据交叉弹性的弹性系数计算公式，将已知数据代入：

$$E_{cx} = \frac{\Delta Q_x / \Delta Q}{\Delta P_y / P_y} = -50\% / 200\% = -0.25.$$

解：(2) 由于交叉弹性为负值，故这两种商品为互补关系。(2分)

3、20世纪70年代汽油价格上升了200%，豪华汽车（耗油大）的需求量减少了50%，这两者之间需求交叉弹性是多少？它们之间是什么关系？

解：

(1) 已知  $\frac{\Delta Q_x}{Q_x} = -50\%$ ,  $\frac{\Delta P_y}{P_y} = 200\%$ ，求  $E_{cx}$ 。

根据交叉弹性系数的计算公式：

$$E_{cx} = \frac{\Delta Q_x / \Delta Q}{\Delta P_y / P_y}$$

将已知数据代入公式，则有：

$$E_{cx} = -50\% / 200\% = -0.25$$

(2) 由于交叉弹性为负值，故这两种商品为互补关系。

4、M 某个国家共有 1 亿人，16 岁以下儿童 2000 万人，65 岁以上成年人 1000 万人。在全日制学校学生 1100 万人，家庭妇女 500 万人，残疾人和其他没有劳动能力者 100 万人，失业者 500 万人，其余为就业者，这个经济中劳动力参工率与失业率分别是多少。

解：(1) 该国的劳动力人数为  $7000 - 2000 = 5000$  万人，  
劳动力参工率为  $5000 / 7000 = 0.714$

(2) 该国的失业率为： $500 / 5000 = 0.1$ ，即该国的失业率为 10%。

5、出租车与私人汽车之间的需求交叉弹性为 0.2，当出租车服务价格上升 20% 时，私人汽车的需求量会增加或减少多少？

答：

32. 已知  $E_{cx} = 0.2$ ,  $\Delta P_y / P_y = 20\%$ 。根据交叉弹性的弹性系数计算公式，将已知数据代入：  
 $0.2 = \frac{\Delta Q_x / Q_x}{20\%}$ ,  $\Delta Q_x / Q_x = 4\%$ ，即私人汽车的需求量会增加 4%。(5分)

6、出租车与私人汽车之间的需求交叉弹性为 0.2，如果出租车服务价格上升 20%，私人汽车的需求量会如何变化？

解：已知  $E_{cx} = 0.2$ ,  $\Delta P_y / P_y = 20\%$ 。

根据交叉弹性系数的计算公式：  
 $E_{cx} = \frac{\Delta Q_x / Q_x}{\Delta P_y / P_y}$

$$0.2 = \frac{\Delta Q_x / Q_x}{20\%}$$

将已知数据代入公式，则有：

$\Delta Q_x / Q_x = 4\%$ ，即私人汽车的需求量会增加 4%。

7、当人们的平均收入增加 20% 时，某种商品的需求量增加了 30%，计算需求收入弹性，并说明这种商品是正常物品还是低档物品，是奢侈品还是生活必需品。

解：(1) 已知  $\frac{\Delta Y}{Y} = 20\%$ ,  $\frac{\Delta Q}{Q} = 30\%$ ，

根据收入弹性系数公式得：  
 $E_m = \frac{\Delta Q / Q}{\Delta Y / Y} = \frac{30\%}{20\%} = 1.5$

(2) 从其收入弹性为正值来看，该商品是正常商品；由于其收入弹性大于 1，故该商品为奢侈品。

8、当自发总支出增加 80 亿元时，国内生产总值增加 200 亿元，计算这时的乘数、边际消费倾向、边际储蓄倾向。

解：已知  $\Delta AE = 80$  亿元， $\Delta Y = 200$  亿元，

乘数公式  $a = \frac{\Delta Y}{\Delta AE} = \frac{1}{1 - MPC}$

(1) 乘数  $a = \frac{\Delta Y}{\Delta AE} = \frac{200}{80} = 2.5$

(2)  $a = \frac{1}{1 - MPC}$ ，边际消费倾向  $MPC = 1 - \frac{1}{a} = 1 - 0.4 = 0.6$

(3)  $MPC + MPS = 1$ ，边际储蓄倾向  $MPS = 1 - MPC = 1 - 0.6 = 0.4$

9、根据短期总成本、短期固定成本、短期可变成本、短期平均成本、短期平均固定成本、短期平均可变成本、短期边际成本之间的关系，并根据下表中已给出的数字进行计算，并填写所有的空格。

产量	固定成本	可变成本	总成本	边际成本	平均固定成本	平均可变成本	平均总成本
0	120	0	120	-	-	-	-
1	120	34	154	34	120	34	154
2	120	63	183	29	60	31.5	91.5
3	120	90	210	27	40	30	70
4	120	116	236	26	30	29	59
5	120	145	265	29	24	29	53
6	120	180	300	30	20	30	50
7	120	230	350	50	17.14	32.86	50
8	120	304	424	74	15	38	53
9	120	420	540	116	13.33	46.67	60

10、根据如下数据资料，用支出法计算国内生产总值。

项目	金额(亿元)	项目	金额(亿元)
耐用品支出	318.4	劳务	1165.7
厂房与设备支出	426	进口	429.9
政府购买支出	748	公司利润	284.5
工资和其它补助	2172.7	出口	363.7
所得税	435.1	居民住房支出	154.4
非耐用品支出	858.3	企业存货净变动额	56.8

解：个人消费支出 C=

耐用品支出+非耐用品支出+住房租金+其他劳务=318.4+858.3+1165.7=2342.4 亿元

私人国内总投资I=厂房与设备支出+居民住房支出+企业存货净变动额=426+154.4+56.8=637.2 亿元

政府购买支出 G=联邦政府支出+州与地方政府支出=748 亿元

净出口 NX=出口-进口=363.7-429.9=-66.2 亿元

GDP=C+I+G+NX =2342.4+637.2+748.0-66.2=3661.4(亿元)

11、根据如下资料，按支出法计算国内生产总值。

项目 金额(亿元) 项目 项目金额(亿元) 耐用品支出 318.4 劳务 1165.7 厂房与设备支出 426 进口 429.9 政府购买支出 748 公司利润 284.5 工资和其它补助 2172.7 出口 363.7 所得税 435.1 居民住房支出 154.4 非耐用品支出 858.3 企业存货净变动额 56.8

解：GDP=C+I+G+(X-M) = (318.4+858.3+1165.7) + (426+154.4+56.8) +748+ (363.7-429.9) =3661.4

12、根据下表计算

面包的消费量	总效用	边际效用
1	20	20
2	30	
3		6

- 消费第二个面包时的边际效用是多少？
- 消费第三个面包的总效用是多少？
- 消费一个、两个、三个面包时每个面包的平均效用是多少？

解：(1) 消费第二个面包时的边际效用是：30-20=10。(2) 消费第三个面包的总效用是：30+6=36。(3) 消费一个、两个、三个面包时每个面包的平均效用分别是：20、15、12。

13、根据下列给出的数字，用支出法计算 GDP。

项目	金额	项目	金额
个人耐用消费品	10 亿元	居民住房	10 亿元
工资	19 亿元	年底存货	3 亿元
公司支付红利	1 亿元	年初存货	2 亿元
个人非耐用消费品	5 亿元	政府间接税收入	12 亿元
净利息收入	1 亿元	资本折旧	5 亿元
公司未分配利润	19 亿元	政府支出	13 亿元
企业厂房与设备投资	10 亿元	净出口	-1 亿元

解：GDP=个人消费支出+私人国内总投资+政府购买支出+净出口=(10 亿元+5 亿元)+(10 亿元+10 亿元+3 亿元-2 亿元)+13 亿元-1 亿元=48 亿元。(5 分)

14、根据以下数据资料，分别用支出法与收入法计算国内生产总值。

项目 金额(亿元) 项目 金额(亿元)

耐用品支出 50 企业税 20

厂房支出 100 联邦政府支出 100

州和地方政府支出 80 住房租金 50

工资和其他补助 220 其他劳务 30

资本折旧 20 公司利润 140

非公司利润 50 设备 50

非耐用品支出 100 出口 80

居民住房支出 30 企业存货净变动额 -50

进口 100 净利息 10

租金收入 10 误差调整 (自己计算)

解：(1) 支出法：C=50+100+5+30=185 (亿元)

I=100+50+30-50=130 (亿元)

G=100+80=180 (亿元)

$GDP=C+I+G+(出口-进口)=185+130+180-92=403$  (亿元)

(2) 收入法:  $GDP=220+10+10+140+50+20+20=470$  (亿元)

(3) 误差调整项  $403-470=-63$  (亿元)

15、根据总效用与边际效用的定义填写下表中的空格部分:

某物品消费量	总效用	边际效用
1	10	10
2	15	5
3	18	3
4	20	2
5	21	1

16、计算并填写表中的空格。

解:  $GDP$  平减指数 = (某一年名义  $GDP \div$  某一年实际  $GDP$ )  $\times 100$

年份	名义 $GDP$ (亿元)	实际 $GDP$ (亿元)	$GDP$ 平减指数
1998	3055	3250	94
1999	3170	3170	100
2000	3410	3280	104
2001	3780	3500	108

17、计算并填写下表中的空格

解: (1) 价格乘以销售量就是总收益;

(2) 总收益除以销售量就是平均收益;

(3) 总收益的增加量除以销售量的增加量就是边际收益。

具体计算结果见下表:

销售量	价格	总收益	平均收益	边际收益
1	10	10	10	-
2	8	16	8	6
3	6	18	6	2
4	5	20	5	2
5	4	20	4	0

18、计算下列每种情况时的货币乘数:

(1) 货币供给量为 5000 亿元, 基础货币为 2000 亿元;

(2) 存款 5000 亿元, 现金 1000 亿元, 准备金 500 亿元。

解: (1)  $mm=M/N=5000/2000=2.5$

(2)  $cu=1000/5000=1/5=0.2$   $r=500/500=1/10=0.1$

$Mm=M/H=(cu+1)/(cu+r)=(0.2+1)/(0.2+0.1)=4$

答: (1) 的货币乘数是 2.5; (2) 的货币乘数为 4

19、假定 1997 年的物价指数为 128, 1998 年的物价指数为 136, 那么, 1998 年的通货膨胀率是多少?

解: 通货膨胀率 =  $(136-128)/128=6.25\%$

20、假定: 目前的均衡国民收入为 5500 亿美元, 如果政府要把国民收入提高到 6000 亿美元, 在边际消费倾向为 0.9, 边际税收倾向为 0.2 的情况下, 求应增加多少政府支出。

解:

$$k = \frac{1}{1 - 0.9 + 0.2} = \frac{1}{0.3} = 3.6$$

$$\Delta Y = k \Delta G$$

$$\Delta G = \frac{\Delta Y}{k} = \frac{6000 - 5500}{3.6} = 140$$

21、假定对劳动的市场需求曲线为  $DL=-10W+150$ , 劳动的供给曲线为  $SL=20W$ , 其中  $SL$ 、 $DL$  分别为劳动市场供给、需求的人数,  $W$  为每日工资, 问: 在这一市场中, 劳动与工资的均衡水平是多少?

解: 均衡时供给与需求相等:  $SL = DL$  即:  $-10W+150 = 20W$

$W = 5$

劳动的均衡数量  $Q_L = SL = DL = 20 \cdot 5 = 100$

22、假定某厂商只有一种可变要素劳动  $L$ , 产出一产品  $Q$ , 固定成本为既定, 短期生产函数  $Q = -0.1L^3 + 6L^2 + 12L$ , 求: (1) 劳动的平均产量  $AP$  为最大值时的劳动人数 (2) 劳动的边际产量  $MP$  为最大值时的劳动人数 (3) 平均可变成本极小值时的产量

解: (1) 因为: 生产函数  $Q = -0.1L^3 + 6L^2 + 12L$  所以: 平均产量  $AP = Q/L = -0.1L^2 + 6L + 12$  对平均产量求导, 得:  $-0.2L + 6$  令平均产量为零, 此时劳动人数为平均产量为最大。  $L=30$

(2) 因为: 生产函数  $Q = -0.1L^3 + 6L^2 + 12L$  所以: 边际产量  $MP = -0.3L^2 + 12L + 12$  对边际产量求导, 得:  $-0.6L + 12$

令边际产量为零, 此时劳动人数为边际产量为最大。  $L=20$

(3) 因为：平均产量最大时，也就是平均可变成本最小，而平均产量最大时  $L=30$ ，所以把  $L=30$  代入  $Q = -0.1L^3 + 6L^2 + 12L$ ，平均成本极小时时的产量应为： $Q=3060$ ，即平均可变成本最小时的产量为 3060。

23、假定某一市场的年销售额为 450 亿元，其中销售额最大的四家企业的销售额分别为：150 亿元、100 亿元、85 亿元、70 亿元。计算该市场的四家集中度是多少？

答：已知  $T=450$  亿元， $A_1=150$  亿元， $A_2=100$  亿元， $A_3=85$  亿元， $A_4=70$  亿元。

将已知数据代入公式： $R = 150+100+85+70/450 = 90\%$

24、假定某种债券每年的收益为 100 元，在债券价格分别为 900 元、1000 元、1100 元时，利率是多少？

解：根据债券价格=债券收益/利率 利率=债券收益/债券价格

利率=100/900=1/9=11.11% 利率=100/1000=1/10=10% 利率=100/1100=1/11=9.09%

答：当债券价格为 900 元时利率为 11.11%；当债券价格为 1000 元时利率为 10%；

当债券价格为 1100 元时利率为 9.09%

25、假定汽油的需求价格弹性系数为 0.15，现价格为每升 3 元，试问汽油价格上涨多少元才能使其消费量减少 10%？

答：已知  $E_d=0.15$ ， $P=3$ ， $\Delta Q/Q=10\%$ ，根据计算弹性系数的一般公式： $E_d=\Delta Q/Q/\Delta P/P$ ，将已知数据代入上式： $0.15=10\%/\Delta P/3$ ， $\Delta P=2$  元。

26、假设：投资增加 80 亿元，边际储蓄倾向为 0.2。求乘数、收入的变化量与消费的变化量。

解：乘数、收入的变化量和消费的变化量分别为：

$$K = \frac{1}{1-b} = \frac{1}{0.2} = 5$$

$$\Delta Y = K \cdot \Delta I = 5 \times 80 = 400$$

$$\Delta C = b \cdot \Delta Y = (1-0.2) \times 400 = 320$$

27、假设柯布一道格拉斯生产函数  $\alpha=0.5$ ， $\beta=0.5$ ，劳动投入量为 16，资本投入量为 400，总产量为 200，则技术系数是多少？

解：柯布一道格拉斯生产函数一般形式是  $Q=f(L, K)=AL_aK_b$ 。本题求  $A$ ， $A=Q/L_aK_b=200/(16^{0.5} \times 400^{0.5})=2.5$ 。

28、假定某银行吸收存款 100 万元，按规定要留准备金 15 万元，请计算：

(1) 准备率为多少？(2) 能创造出多少货币？(3) 如果准备金增加到 25 万元，能创造出多少货币？

解：(1) 准备率=准备金÷存款总额=15÷100=0.15=15%。

(2) 已知  $R=100$ ， $r=15\%$ ，

根据公式： $D = \frac{R}{r} = 100 \div 15\% = 66.7$ (万元)。

(3) 如果准备金增加到 25 万元， $R=100$ ， $r=25\%$ ，

根据公式： $D = \frac{R}{r} = 100/25\% = 400$ (万元)。

29、假设消费者张某对 X 和 Y 两种商品的效用函数为  $U=X^2Y^2$ ，张某收入为 500 元，X 和 Y 的价格分别为  $P_X=2$  元， $P_Y=5$  元，求：张某对 X 和 Y 两种商品的最佳组合。

解： $MU_X=2X Y^2$

$MU_Y = 2Y X^2$

又因为  $MU_X/P_X = MU_Y/P_Y$

$P_X=2$  元， $P_Y=5$  元

所以： $2X Y^2/2=2Y X^2/5$  得  $X=2.5Y$

又因为： $M=P_X X+P_Y Y$

$M=500$  所以： $X=50 Y=125$

30、假设一个经济中总收入为 2000 亿元，储蓄为 400 元，当收入增加为 2500 亿元时，储蓄增加为 500 亿元。计算该经济的乘数。如果这个经济增加了总支出 200 亿元，实际国内生产总值会增加多少？

解： $S=1/5$   $a=1/s=5$  国内生产总值会增=1000 亿元

31、假设一国现有纸币 1200 亿元，铸币 10 亿元，存款货币 3000 亿元，定期存款和其他储蓄存款 2000 亿元，请计算该经济中的  $M_1$  与  $M_2$ 。

解：现金=纸币+铸币=1200+10=1210 亿元， $M_1$ =现金+活期存款=1210+3000=4210 亿元

$M_2 = M_1 + 定期存款及其他储蓄存款 = 4210 + 2000 = 6210$  亿元。

32、假设在一个简单的经济中，边际消费倾向为 0.8，试求：(1) 该经济的投资系数 (2) 假设投资增加 80 亿元，求收入的变化量和消费的变化量。

解：(1) 投资乘数  $k=1/1-边际消费倾向=1/1-0.8=5$

(2) 收入增加量=投资增加量× $k=80 \times 5=400$  亿元

消费增加量=收入增加量×边际消费倾向=400×0.8=360 亿元

33、某个国家共有 1 亿人，16 岁以下儿童 2000 万人，65 岁以上老年人 1000 万人。在全日制学校学生 1400 万人，家庭妇女 500 万人，残疾人和其他没有劳动能力者 100 万人，失业者 500 万人，其余为就业者。这个经济社会中劳动力参工率与失业率分别是多少？

解：(1) 该国的劳动力人数=10000-2000-1000-1400-500-100=5000 (万人)。

该国的劳动力参工率=劳动力人数÷工作年龄人口=5000÷(10000-2000-1000)=0.714=71.4%

(2) 该国的失业率为：失业率=失业人数÷劳动力人数=500÷5000=0.1=10%

34、某公司生产汽车，每辆汽车的平均成本为 5 万元，汽车行业的平均利润为 8%，如果根据成本加成法定价，每辆汽车的价格为多少？如果平均成本增加至每辆 6 万元，其价格为多少？

答：(1) 当平均成本为 5 万元时，每辆汽车的价格为：5+5×8%=5.4 (万元)

(2) 当平均成本为 6 万元时，每辆汽车的价格则为 6+6×8%=6.48 (万元)

35、某国的人口为 2500 万人，就业人数为 1000 万人，失业人数为 100 万人。计算该国的劳动力人数和失业率。

解：(1) 该国的劳动力人数=就业人数+失业人数=1000+100=1100 万人

(2) 该国的失业率=失业人数÷劳动力人数=100÷1100=0.09=9%

36、某国流通的货币为 4000 亿美元，银行的存款准备金为 500 亿美元，商业银行的活期存款为 23000 亿美元，计算：

解：(1) 基础货币、货币供给 (M1) 和货币乘数。

$$M_0 = M_c + RE = 4000 + 500 = 4500$$

$$M_1 = M_0 + D_1 = 4000 + 23000 = 27000$$

(2) 其他条件不变，商行活期存款为 18500 亿美元，求货币供给 (M1) 和货币乘数。

$$M_1 = 4000 + 18500 = 22500$$

$$K_m = \frac{M_1}{M_0} = \frac{22500}{4500} = 5$$

(3) 其他条件不变存款准备金为 1000 亿美元，求基础货币和货币乘数。

$$M_0 = 4000 + 1000 = 5000$$

$$K_m = \frac{27000}{5000} = 5.4$$

37、某国人口为 2500 万人，就业人数为 1000 万人，失业人数为 100 万人。计算该国的劳动力人数和失业率。

解：1) 劳动力包括失业者和就业者，即该国的劳动力为 1000+100=1100 万人

2) 该国的失业率为：100/1100=0.09，即 9%

38、某国总需求增加 100 亿元，其边际消费倾向为 0.6，边际进口倾向为 0.2，请计算：

(1) 该国的对外贸易乘数；

(2) 总需求增加会使国内生产总值增加多少？

(3) 国内生产总值增加后，进口会增加多少？

参考答案：

(1) 对外贸易乘数=1 / (1-边际消费倾向+边际进口倾向)=1 / (1-0.6+0.2)=1.67。

(2) 总需求增加会使国内生产总值增加：1.67×100=167(亿)。

(3) 国内生产总值增加后，进口会增加：167×0.2=33.4(亿)。

39、某人购买某种股票共投资 280 万元，获得 15%红利的概率为 0.4，获得 10%红利的概率为 0.5，无红利的概率为 0.1。在这种情况下，购买该种股票的预期未来收益是多少？

答：购买该种股票的预期未来收益为：

(280×15%)×0.4+(280×10%)×0.5+(280×0)×0.1=16.8+14+0=30.8 (万元)。

40、某人拥有一个企业，假设该企业每年收益为 100 万元。有关资料如下：

(1) 如果不经营这家企业而去找一份工作，他可以得到每年 2 万元的工资；(2) 厂房租金 3 万元；

(3) 原材料支出 60 万元；(4) 设备折旧 3 万元；(5) 工人工资 10 万元；(6) 电力等 3 万元；

(7) 使用一部分自有资金进行生产，该资金存入银行预计可得 5 万元利息，贷款利息 15 万元。该企业的会计成本和会计利润、经济成本和经济利润分别是多少？

解：(1) 会计成本=各项实际支出之和 =3+60+3+10+3+15=94 万元 会计利润=总收益-会计成本=100-94=6 万元

(2) 机会成本=2+5=7 万元，经济成本=会计成本+机会成本=94+7=101 万元；  
经济利润=总收益-经济成本=100-101=-1 万元，即亏损 1 万元。

41、某人原为某机关一处长，每年工资 2 万元，各种福利折算成货币为 2 万元，其后下海，以自有资金 50 万元办起一个服装加工厂。经测算，一年中的各种支出为 55 万元，经营一年后共收入 60 万元，这时银行的利率为 5%。请说明该处长下海是否是明智的选择。

解：

(1) 会计成本是 55 万元，机会成本为：2 万元+2 万元+2.5(50 万元×5%)万元=6.5 万元。

(2) 经济利润=总收益-会计成本-机会成本=60 万元-55 万元-6.5 万元=-1.5 万元

或者用：经济利润=会计利润-机会成本=5 万元(60-55)-6.5 万元=-1.5 万元。(3)

经济利润为负(即亏损 1.5 万元)，说明下海不明智。

42、某消费者收入为 120 元，用于购买 X 和 Y 两种商品，X 商品的价格为 20 元，Y 商品的价格为 10 元，各种不同数量的 X 和 Y 商品的边际效用如下表：

在购买几单位 X 商品和几单位 Y 商品时，可以实现效用最大化？这时货币的边际效用是多少？

分析：∵MU<sub>X</sub>/P<sub>X</sub>=MU<sub>Y</sub>/P<sub>Y</sub>=MU<sub>m</sub> 即 MU<sub>X</sub>/MU<sub>Y</sub>=P<sub>X</sub>/P<sub>Y</sub>，现 P<sub>X</sub>/P<sub>Y</sub>=20/10=2/1

∴应找出 MU<sub>X</sub>/MU<sub>Y</sub>=2/1 的，

查得符合此条件的有：①Q<sub>X</sub>=1，Q<sub>Y</sub>=2；②Q<sub>X</sub>=2，Q<sub>Y</sub>=4；③Q<sub>X</sub>=3，Q<sub>Y</sub>=6。其中又符合 20Q<sub>X</sub>+10

Q<sub>Y</sub>=120 这一条件的是 Q<sub>X</sub>=3，Q<sub>Y</sub>=6 当 Q<sub>X</sub>=3，Q<sub>Y</sub>=6 时 货币的边际效用 MU<sub>X</sub>/P<sub>X</sub>=MU<sub>Y</sub>/P<sub>Y</sub>=

MU<sub>m</sub>

MU<sub>X</sub>/20=MU<sub>Y</sub>/10=MU<sub>m</sub> 12/20=6/10 MU<sub>m</sub>=0.6

答：在购买 3 单位 X 商品和 6 单位 Y 商品时，可以实现效用最大化。这时货币的边际效用是 0.6 单位。

43、某种化妆品的需求弹性系数为 3，如果其价格下降 25%，需求量会增加多少？假设当价格为 2 元时，需求量为 2000 瓶，降价后需求量应该为多少？总收益有何变化？

(1) 已知  $E_d=3$ ,  $\Delta P/P=25\%$ ，根据计算弹性系数的一般公式：

$$E_d = \frac{\Delta Q/Q}{\Delta P/P}$$

需求量会增加： $\Delta Q/Q = E_d \cdot \Delta P/P = 3 \times 25\% = 75\%$ 。

(2) 降价后的需求量为： $2000 + 2000 \times 75\% = 3500$  (瓶)

(3) 降价前的总收益  $TR_1 = 2 \times 2000 = 4000$  元。降价后的总收益  $TR_2 = 2(1 - 25\%) \times 3500 = 5250$  元。

从以上计算结果可知，该商品降价后总收益增加了： $5250 - 4000 = 1250$  元。

44、某种商品的价格上升 10%，供给量增加了 25%，这种商品的供给弹性是多少？

### 1. 根据供给弹性系数的计算公式：

$$E_s = \frac{\Delta Q/Q}{\Delta P/P} = 25\% / 10\% = 2.5 \quad (5 \text{ 分})$$

解：

45、某种商品的需求弹性系数为 1.5，当它降价 10% 时，需求量会增加多少？

32. 已知  $E_d = 1.5$ ,  $\Delta P/P = 10\%$ ，根据计算弹性系数的一般公式： $E_d = \frac{\Delta Q/Q}{\Delta P/P}$

需求量会增加： $\Delta Q/Q = E_d \cdot \Delta P/P = 1.5 \times 10\% = 15\%$ 。(5 分)

46、某种商品的需求弹性系数为 1.5，当它降价 8% 时，需求量会增加多少？

问： $\Delta Q/Q = ?$

答：已知  $E_d = 1.5$ ,  $\Delta P/P = 8\%$ ，根据计算弹性系数的一般公式： $E_d = \frac{\Delta Q/Q}{\Delta P/P}$ ，需求量会增加： $\Delta Q/Q = E_d \cdot \Delta P/P = 1.5 \times 8\% = 12\%$ 。

47、某种商品原来的价格为每公斤 1.20 元，销售量为 800 公斤，该商品的需求弹性系数为 2.4，请问该商品价格下降 25% 之后，总收益发生了什么变化？

解：(1) 原来的总收益  $TR_1 = P_1 \cdot Q_1 = 1.2 \times 800 = 960$  元

(2) 价格下降 25% 之后，销售量变动比率  $= 2.4 \times 25\% = 60\%$ ，

$Q_2 = Q_1 \cdot (1 + 60\%) = 800 \cdot 1.6 = 1280$  公斤  $P_2 = P_1 \cdot (1 -$

$25\%) = 1.2 \cdot 0.75 = 0.9$  元

总收益  $TR_2 = P_2 \cdot Q_2 = 1280 \cdot 0.9 = 1152$  元

(3) 总收益发生的变化  $= TR_2 - TR_1 = 1152 - 960 = 192$  元

这表明，这种商品价格下降了，总收益增加了 192 元，这种商品是富有弹性的。

48、某种商品在价格由 10 元下降为 6 元时，需求量由 20 单位增加为 40 单位。用中点法计算这种商品的需求弹性，并说明属于哪一种需求弹性。

答：(1) 已知  $P_1 = 10$ ,  $P_2 = 6$ ,  $Q_1 = 20$ ,  $Q_2 = 40$ 。将已知数据代入公式：

$$E_d = \frac{\Delta Q / (Q_1 + Q_2) / 2}{\Delta P / (P_1 + P_2) / 2} = \frac{20 / 30}{-4 / 8} = 0.67 / -0.5 = -1.34$$

(2) 根据计算结果，需求量变动的比率大于价格变动的比率，帮该商品的需求富有弹性。

49、如果某消费者有 100 元，X 商品的价格为 10 元，Y 商品的价格为 20 元。X 商品与 Y 商品的边际效用为下表：

解：

$$P_x Q_x + P_y Q_y = M$$

$$MU_x = MU_y$$

$$P_x \quad P_y$$

根据表格，只有购买 4 单位 X 商品，3 个单位的 Y 商品，相比满足以上条件

$$10 \cdot 4 + 20 \cdot 3 = 100$$

$$\frac{70}{10} = \frac{140}{20}$$

$$10 \quad 20$$

50、如果暑假你有两份工作可以选择，一份是当家教，每月保证有 500 元收入，一份是当推销员，干得好每个月最多可赚 3000 元，干不好一分钱也没有。

根据别人的经验，赚 3000 元的概率为 0.1，赚 2000 元的概率为 0.4，赚 1000 元的概率为 0.4，一分钱赚不到的概率为 0.1。这两份工作的未来预期收入各是多少？

解：当家教每月工作的未来预期收入保证有 500 元。

当推销员每月工作的未来预期收入  $= 3000 \times 0.1 + 2000 \times 0.4 + 1000 \times 0.4 + 0 \times 0.1 = 1500$  元

51、如果现金一存款率是 0.38，法定准备率是 0.18，货币乘数是多少？如果增加 100 亿元的基础货币，则货币供给量会增加多少？

$$\text{解：货币乘数计算公式 } mm = \frac{M}{H} = \frac{cu + 1}{cu + r}$$

□ (1) 货币乘数

$$mm = \frac{cu + 1}{cu + r} = \frac{0.38 + 1}{0.38 + 0.18} = \frac{1.38}{0.56} = 2.46$$

(2) 若基础货币增加  $H = 100$  亿元，则货币供给量会增加

$$M = mm \times H = 2.46 \times 100 = 246 \text{ 亿元}$$

52、如果现金一存款率为 0.38，准备率为 0.18，货币乘数是多少？如果增加 100 亿元的基础货币，则货币供给量会增加多少？

(1) 根据货币乘数的计算公式： $mm = \frac{M}{H} = \frac{cu+1}{cu+r}$ ,

已知  $cu=0.38, r=0.18$ , 则  $mm = \frac{cu+1}{cu+r} = \frac{1.38}{0.56} = 2.46$ .

(2) 如果增加 100 亿元的基础货币，则货币供给量会增加： $2.46 \times 100 = 246$  亿元。(2 分)

(以上两个计算题仅列出公式或列出式子可给一半分，也可以不写公式，但要列出式子，没有式子不给分)

53、如果要使一国的经济增长率从 6% 提高到 8%，在资本—产量比率为 3 的前提下，根据哈罗德经济增长模型，储蓄率应有何变化？

解：根据哈罗德经济增长模型的公式： $G = \frac{S}{C}$  已知  $C=3, G_1=6\%, G_2=8\%$ ，将已知数据代入，  
 则有： $S_1 = 3 \times 6\% = 18\%$ ， $S_2 = 3 \times 8\% = 24\%$

因此，储蓄率应从 18% 提高到 24%。

54、如果一种商品价格上升 10%，另一种商品需求量增加了 15%，这两种商品的需求交叉弹性是多少？这两种商品是什么关系？

答：(1) 根据交叉弹性的弹性系数计算公式，将已知数据代入：

$$E_{cx} = \frac{\Delta Q_x}{Q_x} / \frac{\Delta P_y}{P_y} = 15\% / 10\% = 1.50。 (3 分)$$

(2) 由于交叉弹性为正值，故这两种商品为替代关系。(2 分)

55、如果一种商品价格上升 10%，另一种商品需求量增加了 15%，这两种商品的需求交叉弹性是多少？这两种商品是什么关系？

(1) 根据交叉弹性的弹性系数计算公式，将已知数据代入：

$$E_{cx} = \frac{\Delta Q_x}{Q_x} / \frac{\Delta P_y}{P_y} = 15\% / 10\% = 1.50$$

(2) 由于交叉弹性为正值，故这两种商品为替代关系。

56、如果银行最初吸收的存款为 100 万元，准备率为 0.1，计算商业银行体系所能创造的货币量及简单货币乘数。(运用题)

解：已知  $R=100$  万元， $r=0.1$

商业银行体系所能创造的货币量为  $D = R/r = 100/0.1 = 1000$  (万元)

简单货币乘数为  $m = D/R = 1/r, m = D/R = 1000/100 = 10$

57、设实际储蓄率为 0.4，实际资本—产量比率为 3，合意储蓄率为 0.5，合意的资本—产量比率为 4，自然增长率为 8%，请计算：A：(1) 实际增长率为

(2) 有保证的增长率；(3) 最适宜的储蓄率。

B：(1) 在以上的假设时，短期中经济中会出现累积性扩张，还是累积性收缩，或稳定增长？

(3) 长期中是长期停滞，还是长期繁荣，或稳定增长？

解：已知

$$S=0.4, C=3, S_d=0.5, C_d=4, G_n=8\%$$

$$A: (1) \text{ 实际增长率 } G = S/C = 0.4/3 = 13.3\%$$

(2) 有保证的增长率

$$G_w = \frac{S_d}{C_d} = \frac{0.5}{4} = 0.125 = 12.5\%$$

(3) 最适宜的储蓄率

$$S_0 = G_n \cdot C_d = 8\% \times 4 = 32\%$$

B: (1) 在以上的假设时，由于  $G > G_w$ ，因此短期中经济会出现累积性扩张。

(2) 在长期中，由于  $G_w > G_n$ ，因此会出现长期停滞。

58、设有如下简单经济模型： $Y=C+I+G, C=80+0.75Y_d, Y_d=Y-T, T=-20+0.2Y, I=50+0.1Y, G=200$ 。求收入、消费、投资与税收的均衡值及投资乘数。

解：

$$Y = C + I + G = 80 + 0.75[Y - (-20 + 0.2Y)] + 50 + 0.1Y + 200$$

$$Y = 1150$$

$$C = 80 + 0.75Y_d = 785$$

$$I = 50 + 0.1Y = 165$$

$$Y_d = -20 + 0.2Y = 210$$

$$K = \frac{1}{1 - (0.75 \times 0.8 + 0.1)} = 3.3$$

59、设有下列经济模型： $Y=C+I+G, I=20+0.15Y, C=40+0.65Y, G=60$ 。求：

解：(1) 边际消费倾向及边际储蓄倾向各为多少？边际消费倾向为 0.65，边际储蓄倾向为 0.35。

(2) Y, C, I 的均衡值。

$$Y = C + I + G = 40 + 0.65Y + 20 + 0.15Y + 60$$

$$Y = 600$$

$$C = 40 + 0.65Y = 40 + 0.65 \times 600 = 430$$

$$I = 20 + 0.15Y = 20 + 0.15 \times 600 = 110$$

$$(3) \text{ 投资乘数是多少 } K = \frac{1}{1 - (0.15 + 0.65)} = 5$$

60、设债券的收益为 20 元，利率为 5%，计算此时的债券价格为多少？如果利率上升为 8%，债券价格又为多少？

解：（1）利率为 5%时，

$$\text{债券价格} = \text{债券收益} / \text{利率} = 20 / 5\% = 400 \text{ 元}$$

（2）利率为 8%时，

$$\text{债券价格} = \text{债券收益} / \text{利率} = 20 / 8\% = 250 \text{ 元}$$

61、设资本量为 100，资本增量为 20，劳动量为 150，劳动增量为 30，资本在劳动中所作的贡献为 0.25，技术进步率为 0.02，试根据新古典经济增长模型计算经济增长率。

答案：

$$\text{已知 } K=100, \Delta K=20, L=150, \Delta L=30, a=0.25, \Delta A/A=0.02.$$

根据新古典经济增长模型：

$$G = a(\Delta K / K) + b(\Delta L / L) + \Delta A / A = 0.25 \times (20 / 100) + (1 - 0.25) \times (30 / 150) + 0.02 = 22\%。(5 \text{ 分})$$

（要求列出公式或式子

62、社会原收入水平为 1000 亿元，消费为 800 亿元，当收入增加到 1200 亿元时，消费增加至 900 亿元，请计算边际消费倾向和边际储蓄倾向。

$$33. (1) \text{ 边际消费倾向 } MPC = \Delta C / \Delta Y = (900 - 800) / (1200 - 1000) = 0.5 (2 \text{ 分})$$

$$(2) \text{ 边际储蓄倾向 } MPS = \Delta S / \Delta Y = (1200 - 900) - (1000 - 800) / (1200 - 1000) = 0.5$$

（也可以用  $1 - MPC$  得出）（3 分）

（以上两个计算题仅列出公式或列出式子可给一半分，

也可以不写公式，但要列出式子，没有式子不给分）

63、社会原收入水平为 1000 亿元，消费为 800 亿元，当收入增加至 1200 亿元时，消费增加至 900 亿元，请计算：平均消费倾向、平均储蓄倾向、边际消费倾向、边际储蓄倾向。

解：已知： $Y_1=1000$  亿元， $C_1=800$  亿元， $Y_2=1200$  亿元， $C_2=900$  亿元， $\Delta AE=50$  亿元。

平均消费倾向  $APC = C / Y = 800 / 1000 = 0.8$ ；

平均储蓄倾向  $APS = S / Y = (1000 - 800) / 1000 = 0.2$ ；

边际消费倾向  $MPC = \Delta C / \Delta Y = \frac{C_2 - C_1}{Y_2 - Y_1} = (900 - 800) / (1200 - 1000) = 0.5$ ；

边际储蓄倾向  $MPS = 1 - MPC = 1 - 0.5 = 0.5$ 。

64、填写下表中的空格。

产量 固定成本 总成本 可变成本 平均固定成本 平均可变成本 平均成本 边际成本

0 120

1 180

2 80

3 10

4 225

5 28

6 70

解：短期总成本  $TC = \text{可变成本 } VC + \text{固定成本 } FC$  平均固定成本  $AFC = \text{固定成本 } FC / \text{产量 } Q$

平均可变成本  $AVC = \text{可变成本 } VC / \text{产量 } Q$  平均成本  $AC = \text{总成本 } TC / \text{产量 } Q = \text{平均固定成本 } AFC$

+ 平均可变成本  $AVC$

边际成本  $MC = \text{总成本增加量 } \Delta TC / \text{产量增加量 } \Delta Q = \text{可变成本增加量 } \Delta VC / \text{产量增加量 } \Delta Q$

产量	固定成本	总成本	可变成本	平均固定成本	平均可变成本	平均成本	边际成本
0	120	120	0				0
1	120	180	60	120	60	180	60
2	120	200	80	60	40	100	20
3	120	210	90	40	30	70	10
4	120	225	105	30	26.25	56.25	15

5	120	260	140	24	28	52	35
6	120	330	210	20	35	55	70

65、完全竞争企业的长期成本函数  $LTC = Q^3 - 6Q^2 + 30Q + 40$ ，市场需求函数  $Qd = 204 - 10P$ ， $P = 66$ ，试求

(1) 长期均衡的市场产量和利润 (2) 这个行业长期均衡时的企业数量

解：因为  $LTC = Q^3 - 6Q^2 + 30Q + 40$  所以  $MC = 3Q^2 - 12Q + 30$  根据利润最大化原则  $MR = MC$  得  $Q = 6$  利润  $= TR - TC = 176$

66、下面是某企业的产量、边际成本、边际收益情况：

边际成本 (元)	产量	边际收益 (元)
2	2	10
4	4	8
6	6	6
8	8	4
10	10	2

答案：

(1) 利润最大化的原则是： $MR = MC$  (边际成本等于边际收益)。因此本题中，当产量为 6 单位时，实现了利润最大化。(1 分)

(2) 在产量小于 6 时，边际收益大于边际成本，这表明还有潜在的利润没有得到，企业增加生产是有利的，也就是说没有达到利润最大化。

在产量大于 6 时，边际收益小于边际成本，表明企业每多生产一单位产量所增加的收益小于生产这一单位产量所增加的成本。这对该企业来说就会造成亏损，更谈不上利润最大化了，因此企业必然要减少产量。

只有生产 6 单位产量时，边际收益与边际成本相等，企业就不再调整产量，表明已把该赚的利润都赚到了，即实现了利润最大化。(4 分)

67、下面是某企业的产量、边际成本、边际收益情况：边际成本 (元) 产量 边际收益 (元)

2 2 10

4 4 8

6 6 6

8 8 4

10 10 2 这个企业利润最大化的产量是多少？为什么？

解：(1) 利润最大化的原则是边际收益与边际成本相等，根据题意，当产量为 6 单位时，实现了利润最大化。

(2) 在产量小于 6 时，边际收益大于边际成本，这表明还有潜在的利润没有得到，企业增加生产是有利的；在产量大于 6 时，边际收益小于边际成本，这对该企业来说就会造成亏损，因此企业必然要减少产量；只有生产 6 单位产量时，边际收益与边际成本相等，企业就不再调整产量，表明已把该赚的利润都赚到了，即实现了利润最大化。

68、下面是一个经济中的有关资料，根据这些资料用支出法计算该国的 GDP：

- (1) 购买汽车、彩电等耐用消费品支出 1000 亿元
- (2) 购买食品、服装等非耐用消费品支出 2000 亿元
- (3) 雇用保姆和家庭教师支出 200 亿元
- (4) 企业投资支出 (包括厂房和设备) 2000 亿元
- (5) 企业支付给工人的工资 3000 亿元
- (6) 企业支付的银行利息和向政府缴纳的税收共 500 亿元
- (7) 今年初存货为 1500 亿元，年底存货为 1000 亿元。
- (8) 各级政府为教育和社会保障支出 2000 亿元
- (9) 中央政府国防与外交支出 500 亿元
- (10) 中央与地方政府税收收入 2500 亿元
- (1) 出口产品收入 1500 亿元
- (12) 进口产品支出 1000 亿元

解：下面是一个经济中的有关资料，根据这些资料用支出法计算该国的 GDP：

- (1) 购买汽车、彩电等耐用消费品支出 1000 亿元
- (2) 购买食品、服装等非耐用消费品支出 2000 亿元
- (3) 雇用保姆和家庭教师支出 200 亿元
- (4) 企业投资支出 (包括厂房和设备) 2000 亿元
- (5) 企业支付给工人的工资 3000 亿元
- (6) 企业支付的银行利息和向政府缴纳的税收共 500 亿元
- (7) 今年初存货为 1500 亿元，年底存货为 1000 亿元。
- (8) 各级政府为教育和社会保障支出 2000 亿元
- (9) 中央政府国防与外交支出 500 亿元
- (10) 中央与地方政府税收收入 2500 亿元
- (1) 出口产品收入 1500 亿元
- (12) 进口产品支出 1000 亿元

$GDP = (1000 + 2000 + 200) + 2000 + (1000 - 1500) + 2000 + 500 + (1500 - 1000) = 7700$  (亿元)

69、一个国家边际消费倾向为 0.6，边际进口倾向为 0.2。如果该国总需求增加 100 亿元，国内生产总值能增加多少？

解: 对外贸易乘数=1/(1-边际消费倾向+边际进口倾向)=1/(1-0.6+0.2)=5/3

$\Delta GDP=5/3 \times 100=167$  (亿元)

答: 国内生产总值增加 167 亿元

70、一个经济中按货币计算的财产为 1 万亿元, 现在物价水平上升了 20%(即物价指数原来为 100, 现在为 120)实际财产会发生什么变动, 这对总需求有什么影响?

答案: 一个经济中按货币计算的财产为 1 万亿元是名义财产, 当物价水平上升了 20%, 实际财产会减少 20%, 即为 10000 亿元。因此, 物价水平上升引起实际财产减少, 消费减少, 从而总需求减少。71、一个经济中的消费需求为 8000 亿元, 投资需求为 1800 亿元, 出口为 1000 亿元, 进口为 800 亿元, 计算该经济的总需求, 并计算各部分在总需求中所占的比例。

答: (1) 根据题意,  $C=8000$  亿元,  $I=1800$  亿元,  $NX=1000-800=200$  亿元, 因此:  $YD=C+I+NX=8000+1800+200=10000$  亿元。

(2) 消费需求在总需求中所占的比例为:  $8000/10000=0.8$ , 即 80%。

(3) 投资需求在总需求中所占的比例为:  $1800/10000=0.18$ , 即 18%。

(4) 国外需求在总需求中所占的比例为:  $200/10000=0.02$ , 即 2%。

(以上两个计算题仅列出公式或列出式子可给一半分, 也可以不写公式, 但要列出式子, 没有式子不给分)。

72、已知: 边际消费倾向为 0.8, 边际税收倾向为 0.15, 政府购买支出和转移支付各增加 500 亿元。

求: 政府购买支出乘数/转移支付乘数/政府支出增加引起的国民收入增加额/转移支付增加引起的国民收入增加额。

解: ↙

$$K_G = \frac{1}{1-b(1-t)} = \frac{1}{1-0.8 \times (1-0.15)} = 3.1$$

$$K_M = \frac{b}{1-b(1-t)} = \frac{0.8}{1-0.8 \times (1-0.15)} = 2.5$$

$$\Delta Y_G = \Delta G \cdot K_G = 500 \times 3.1 = 1550$$

$$\Delta Y_M = \Delta TR \cdot K_M = 500 \times 2.5 = 1250$$

总供给函数:  $AS=2300+400P$ , 总需求函数:  $AD=2000+4500/P$ 。求均衡的收入和均衡价格。解: 均衡收入和均衡价格分别为:

$$AS = AD$$

$$2300 + 400P = 2000 + 4500/P$$

$$P = 3, Y = 3500$$

73、已知: 某国流通中的现金为 5000 亿美元, 货币乘数为 6, 银行的存款准备金为 700 亿美元, 试求: 基础货币和货币供应量 ( $M_1$ )

解:

$$M_h = M_0 + RE = 5000 + 700 = 5700$$

$$M_1 = K_m \cdot M_h = 6 \times 5700 = 34200$$

74、已知: 折旧 380 亿元、个人所得税 580 亿元、公司未分配利润 80 亿元、间接税 490 亿元、国内生产总值 5400 亿元、企业所得税 640 亿元、转移支付 430 亿元、政府给居民户支付的利息 190 亿元。

根据以上资料计算国内生产净值、国民收入、个人收入和个人可支配收入。

解: (1) 国内生产净值  $NDP = \text{国内生产总值} - \text{折旧} = 5400 - 380 = 5020$  (亿元)。

(2) 国民收入  $NI = NDP - \text{间接税} = 5020 - 490 = 4530$  (亿元)。

(3) 个人收入  $PI = NI - \text{公司未分配利润} - \text{企业所得税} + \text{政府给居民户的转移支付} + \text{政府向居民支付的利息} = 4530 - 80 - 640 + 430 + 190 = 4430$  (亿元)。

(4) 个人可支配收入  $PDI = PI - \text{个人所得税} = 4430 - 580 = 3850$  (亿元)。

75、已知: 中行规定法定存款准备率为 8%, 原始存款为 5000 亿美元, 假定银行没有超额准备金, 求:

解: (1) 存款乘数和派生存款。

$$K_s = \frac{1}{0.08} = 12.5, D = M_2 \cdot K_s = 5000 \times 12.5 = 62500$$

(2) 如中行把法定存款准备率提高为 12%,

假定专业银行的存款总量不变, 计算存款乘数和派生存款

$$K_s = \frac{1}{0.12} = 8.6, D = M_2 \cdot K_s = 5000 \times 8.6 = 43000$$

(3) 假定存款准备金仍为 8%, 原始存款减少 4000 亿美元,

求存款乘数和派生存款  $K_s = 12.5, D = 4000 \times 12.5 = 50000$

76、已知某国的投资函数为  $I=300-100r$ , 储蓄函数为  $S=-200+0.2Y$ , 货币需求为  $L=0.4Y-50r$ , 该国的货币供给量  $M=250$ , 价格总水平  $P=1$ 。

(1) 写出 IS 和 LM 曲线方程; (2) 计算均衡的国民收入和利息率; (3) 在其他条件不变情况下, 政府购买增加 100, 均衡国民收入增加多少?

解: (1) IS 曲线:  $300-100r=-200+0.2Y$  LM 曲线:  $0.4Y-50r=250$

(2) 求解:  $300-100r=-200+0.2Y$   $0.4Y-50r=250$  得到:  $Y=1000$   $r=3$

(3) $C=100$ ，则 IS-LM 方程为  $100+300-100r=-200+0.2Y$   $0.4Y-50r=250$

解得： $Y=1100$ ，因此，国民收入增加 100。

77、已知某商品的需求函数为  $2Q+P=6$ ，求  $P=2$  时的需求价格弹性。如果企业要扩大销售收入，应该采取提价还是降价的策略？

解：当  $P=2$  时， $Q=3-P/2=2 = -(-1/2) \cdot 2/Q=1/2$

因为需求缺乏弹性，要扩大销售收入，应该采取提价的策略。

78、已知某种商品的需求函数为  $D=40-1/3P$ ，供给函数为  $S=1/5P$ 。求该商品的均衡价格和均衡数量。

答：根据均衡价格决定的公式，即  $D=S$ ，则有： $40-1/3P=1/5P$ ，由上式可计算出均衡价格  $P=75$ 。因此均衡数量为： $D=S=40-1/3P$ （或  $1/5P$ ） $=15$ 。

79、已知某种商品的需求函数为  $D=350-3P$ ，供给函数为  $S=-250+5P$ 。求该商品的均衡价格和均衡数量。

解：（1） $D=S$

$350-3P=-250+5P$ ， $350+250=5P+3P$  得出： $P=75$

（2）将  $P=75$  代入  $D=350-3P=350-3*75=125$

所以，在均衡价格为每千克 75 元时，均衡数量为 125 千克。

80、已知生产函数  $Q=LK$ ，当  $Q=10$  时， $P_L=4$ ， $P_K=1$  求：（1）厂商最佳生产要素组合时资本和劳动的数量是多少？（2）最小成本是多少？

解：（1）因为  $Q=LK$ ，所以  $MP_K=L$   $MP_L=K$

又因为：生产者均衡的条件是  $MP_K/MP_L=P_K/P_L$

将  $Q=10$ ， $P_L=4$ ， $P_K=1$  代入  $MP_K/MP_L=P_K/P_L$

可得： $K=4L$  和  $10=KL$  所以： $L=1.6$ ， $K=6.4$

（2）最小成本= $4 \cdot 1.6+1 \cdot 6.4=12.8$

81、已知消费函数为  $C=200+0.5Y$ （或储蓄函数），投资函数为  $I=800-5000r$ ，货币需求函数为  $L=0.2Y-4000r$ ，货币的供给为本  $m=100$ 。请写出：

（1）、IS 曲线方程；（2）、IS—LM 模型的具体方程，并求解均衡的国民收入（Y）和均衡的利息率（r）各为多少。

④如果自主投资由 800 增加到 950，均衡国民收入会如何变动？你的结果与乘数定理的结论相同吗？请给出解释。

解：①通过消费函数求解储蓄函数  $S=Y-C$  并带入到  $I=S$  中： $Y-(200+0.5Y)=800-5000r$  得  $Y+10000r=2000$  此为 IS 曲线方程。②由  $m=L$  得  $100=0.2Y-4000r$   $Y-20000r=500$  此为 LM 曲线方程。③联立上述二曲线方程，可得到  $Y=1500$  和  $r=5\%$ ，即为产品市场和货币市场同时均衡时的国民收入和利息率。

④ $Y-(200+0.5Y)=950-5000r$  得  $Y+10000r=2300$  ...IS 方程 与上述 LM 方程联立，解得  $r=6\%$ ， $Y=1700$ ， $\Delta Y=200$

这一结果小于乘数定理的结论。根据乘数原理，在简单模型中的乘数应是  $1/(1-0.5)=2$ ，自主投资增加 150 带来的收入增加是  $150 \times 2=300$ 。两者不一致的原因是，IS-LM 模型中允许利率变化，当自主投资支出增加导致收入增加时，收入增加导致货币需求增加，从而导致利率上升，投资减少，挤掉了投资支出增加的效应，这就是所谓的挤出效应。

82、已知消费函数为  $C=200+0.8Y$ ，投资为自主投资， $I=50$ 。试求：（1）、均衡的国民收入（Y）为多少？

（2）、均衡的储蓄量（S）为多少（3）、如果充分就业的国民收入水平为  $Y_f=2000$ ，那么，为什么该经济达到充分就业的均衡状态，投资量应如何变化？（4）、本题中投资乘数（k）为多少？

解：①根据产品市场的均衡条件，可以得到  $Y=C+I$  从而  $Y=200+0.8Y+50$  解得  $Y=1250$  ② $S=I$  时市场处于均衡，因而均衡储蓄量为  $S=50$ 。③如果充分就业的国民收入水平为  $Y_f=2000$ ，则投资量应该达到下列条件所满足的数量，即  $Y_f=200+0.8Y_f+I$  从而  $I=200$  ④投资乘数： $k=1/(1-\beta)=1/(1-0.8)=5$

83、在简单的国民经济循环中， $C=60+0.8Y$ ， $Y=800$  亿元，求：（1）国民经济处于均衡时的投资；

（2）若要使均衡国民收入增加到 1000 亿元，而投资不变时的政府支出。

解：1)  $Y=C+I$ ，将  $Y=800$  代入，

$800=60+0.8 \cdot 800+I$

$I=100$ （亿元）

2)  $Y=C+I+G$ ，将  $Y=1000$  代入，

$1000=60+0.8 \cdot 1000+100+G$

$G=40$ （亿元）

84、在一个经济社会中，消费需求为 8000 亿元，投资需求为 1800 亿元，出口为 1000 亿元，进口为 800 亿元，计算该经济社会的总需求，并计算各部分在总需求中所占的比例。

答案：

已知消费需求  $C=8000$  亿元，投资需求  $I=1800$  亿元，净出口  $NX=1000-800=200$  亿元。

（1） $Y_D=C+I+NX=8000+1800+200=10000$  亿元。

（2）消费需求在总需求中所占的比例为： $8000/10000=0.8=80\%$ 。

投资需求在总需求中所占的比例为： $1800/10000=0.18=18\%$ 。

国外需求在总需求中所占的比例为： $200/10000=0.02=2\%$ 。

85、在一个行业中，最大的企业市场占有率为 15%，第二家为 12%，第三家为 10%，第四家为 9%，第五家为 8%，第六家为 7%，第七家为 6%，第八家 5%，第九家为 4%，第十家为 3%。计算：

（1）四家集中率；

（2）赫芬达尔—赫希曼指数（HHI）

解：1) 四家集中率： $R=A_1+A_2+A_3+A_4/4=15\%+12\%+10\%+9\%/4=11.5\%$

2) 赫芬达尔-赫希曼指数 (HHI) = 152+122+102+92+82+72+62+52+42+32=749

86、中央银行想使流通中的货币量增加 1200 万元，如果现金一存款率是 0.2，法定准备率是 0.1，中央银行需要在金融市场上购买多少政府债券？

答：

33. 根据货币乘数的计算公式， $mm = \frac{M}{H} = \frac{cu+1}{cu+r}$ ，已知  $cu=0.2, r=0.1$ ，则  $mm = \frac{cu+1}{cu+r} =$

$$\frac{1.2}{0.3} = 4, (2 \text{ 分})$$

已知  $M=1200, mm=4$ ，根据公式  $mm = \frac{M}{H}$ ， $H=300$  万，即中央银行需要在金融市场上购

买 300 万元的政府债券。(3 分)

(以上两个计算题仅列出公式或列出式子可给一半分，也可以不写公式，但要列出式子，没有式子不给分)

87、中央银行想使流通中的货币量增加 1200 万元，如果现金一存款率是 0.2，法定准备率是 0.1，

解：已知  $cu=0.2, r=0.1, M=1200$ ，

货币乘数计算公式  $mm = \frac{M}{H} = \frac{cu+1}{cu+r}$

(1) 货币乘数为  $mm = \frac{cu+1}{cu+r} = \frac{0.2+1}{0.2+0.1} = 4$

(2) 中央银行需要在金融市场上购买的

政府债券数量为  $H = \frac{M}{mm} = \frac{1200}{4} = 300$  万元。

中央银行需要在金融市场上购买多少政府债券？